

2020年度 入学試験 学特入試Ⅱ

社 会

※問題は[1]ページから[14]ページまであります。

※マークシートに、受験番号・氏名・性別・科目を正しく記入してください。

※解答は、すべてマークシートに記入してください。

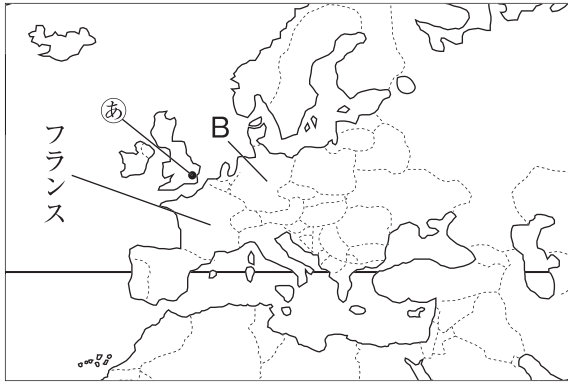
※書き誤りをしたときは、きれいに消してから、新しい解答を書いてください。

学 特 入 試 Ⅱ	受 験 番 号		氏 名	
-----------------------	------------------	--	------------	--

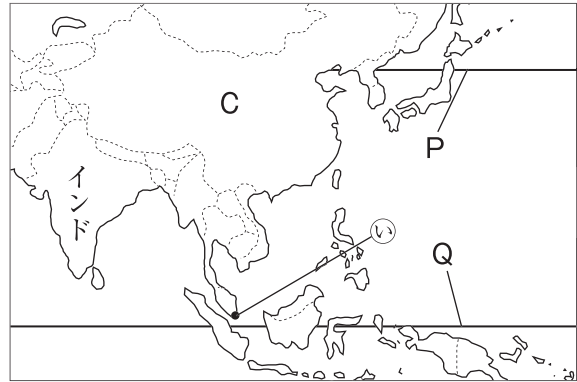
高崎健康福祉大学高崎高等学校

1. 次の地図1～4を見て、あとの問いに答えなさい。

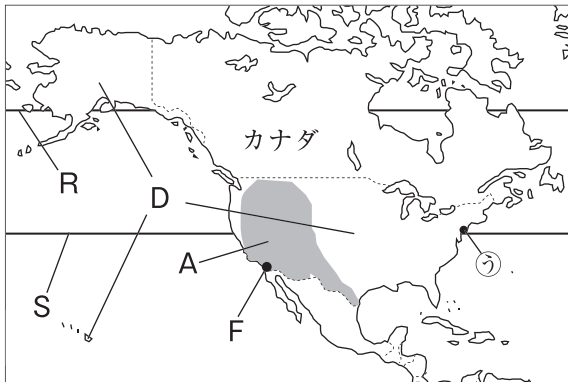
地図1



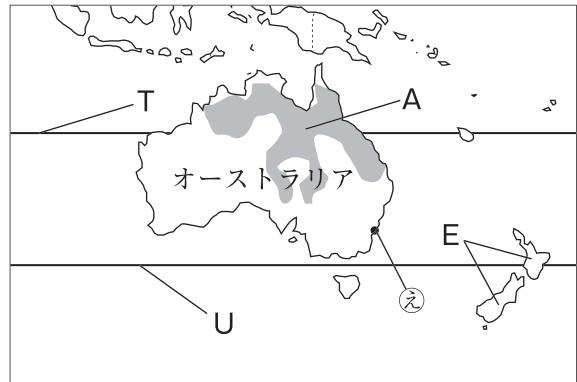
地図2



地図3



地図4



(地図1～地図4の縮尺はそれぞれ異なります)

(1) 地図1中に示した緯線の緯度の数値と、同じ数値の緯線を地図中のP～Uから選んだ組み合わせとして最も適当なものを次の①～⑥のうちから一つ選び、その番号をマークしなさい。

1

- ① P, R, T ② P, R, U ③ P, S, U
 ④ Q, R, U ⑤ Q, S, T ⑥ Q, S, U

(2) 地図3・4中のAで2か所示した地域に関する次の文中の(X), (Y)にあてはまる語句の組み合わせとして最も適当なものをあとの①～⑥のうちから一つ選び、その番号をマークしなさい。

2

広大な土地を利用して多くの(X)の(Y)が行われている。

- ① X:乳牛 Y:遊牧 ② X:乳牛 Y:放牧 ③ X:羊 Y:遊牧
 ④ X:羊 Y:放牧 ⑤ X:肉牛 Y:遊牧 ⑥ X:肉牛 Y:放牧

(3) 地図1中にBで示した国について述べた文として最も適当なものを次の①～④のうちから一つ選び、その番号をマークしなさい。

3

- ① 西岸海洋性気候に属し、穀物栽培と牛や豚などを飼う混合農業が中心の国である。
 ② 冬は降水量が多いため小麦を、夏は乾燥するためオリーブの栽培がさかんな国である。
 ③ 海岸部には、昔あった氷河がつくった、フィヨルドと呼ばれる湾が見られる国である。
 ④ ベルンを首都とし、アルプス山脈の山ろくに広がる、EU未加盟の観光などがさかんな国である。

(4) 地図2中にCで示した国について述べた文として最も適当なものを次の①～④のうちから一つ選び、その番号をマークしなさい。

4

- ① 国土面積が第1位の国であり、冷帯地域にはタイガと呼ばれる針葉樹林が広がる。
- ② 米や小麦の生産量が世界一多く、工業化も進み、BRICSの一つとなっている。
- ③ 国民の多くが、牛を神の使者と考えて神聖視するため、街中にも牛が多く見られる。
- ④ ペルシャ湾岸に多くの油田があり、世界有数の石油産出、輸出国となっている。

(5) 地図3中にDで示した国について述べたI・IIの文の正誤の組み合わせとして最も適当なものを次の①～④のうちから一つ選び、その番号をマークしなさい。

5

I 国土の東部のサンフランシスコの郊外には、シリコンバレーと呼ばれる地域が広がる。
 II 近年、ヒスパニックと呼ばれるヨーロッパ系の移民が増えている。

- ① I：正 II：正 ② I：正 II：誤 ③ I：誤 II：正 ④ I：誤 II：誤

(6) 地図4中にEで示した国は、ヨーロッパのある国の植民地であったが、1947年に独立した。かつてこの国を植民地支配していた国として最も適当なものをあとの①～④のうちから一つ選び、その番号をマークしなさい。

6

- ① イギリス ② スイス ③ スペイン ④ アルゼンチン

(7) 地図3中にFで示した都市と時差が12時間以上ある都市を、地図中の㉞～㉟から選んだ組み合わせとして最も適当なものを次の①～④のうちから一つ選び、その番号をマークしなさい。

7

- ① ㉞, ㉟ ② ㉞, ㉟ ③ ㉟, ㉟ ④ ㉟, ㉟

(8) 次の資料は、地図中に示した4つの国の人口、1人あたりGNI、輸出入額に関する統計をまとめたものです。この資料から読み取れることとして最も適当なものをあとの①～④のうちから一つ選び、その番号をマークしなさい。

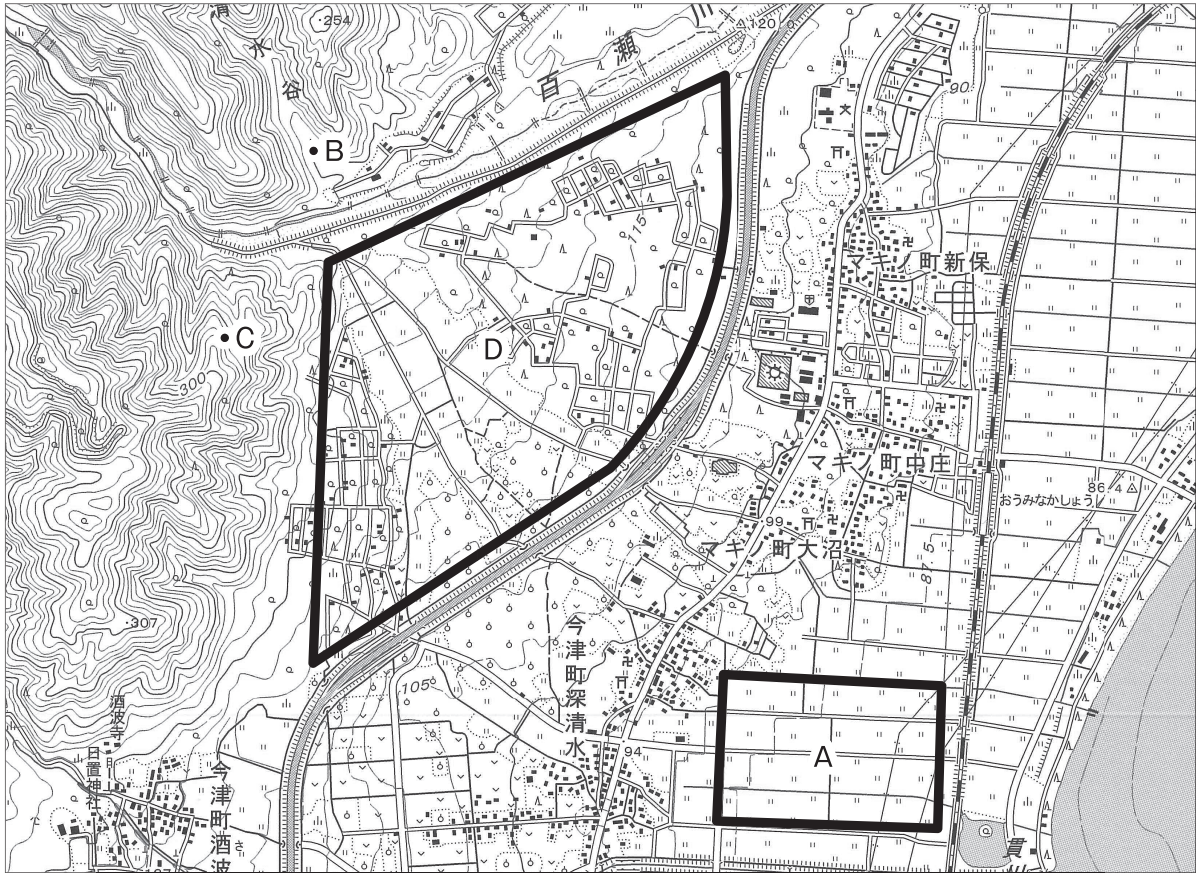
8

	人口 (万人)	1人あたりGNI (国民総所得) (ドル)	貿易額 (百万ドル)	
			輸出	輸入
オーストラリア	2,431	52,730	191,089	188,950
カナダ	3,629	41,568	389,397	404,433
フランス	6,467	37,412	488,797	560,752
インド	132,680	1,685	264,616	361,044

(2016年値 2018/19「世界国勢図会」などより)

- ① 1人あたりGNIが多い国ほど、輸出金額が多く、輸入金額が少なくなっている。
- ② 一国のGNIが最も多い国はインド、次いでフランス、カナダの順となっている。
- ③ 輸入金額から輸出金額を引いた貿易赤字金額が最も多いのはインド、次いでフランスである。
- ④ フランスの貿易額は最も多く、貿易額の最も少ないオーストラリアの10倍以上となっている。

2. 次は、縮尺2万5千分の1の地形図です。これを見て、あとの問いに答えなさい。



(1) 地形図中にAで示した場所は、たてが2cmと横が3cmの長方形です。この場所の実際の面積として最も適当なものを次の①～④のうちから一つ選び、その番号をマークしなさい。

9

- ① 375m² ② 3,750m² ③ 37,500m² ④ 375,000m²

(2) 地形図中のBとCで示した2地点の、おおよその標高差として最も適当なものを次の①～④のうちから一つ選び、その番号をマークしなさい。

10

- ① 約200m ② 約100m ③ 約50m ④ 約10m

(3) 地形図から読みとれることについて述べた文として最も適当なものを次の①～④のうちから一つ選び、その番号をマークしなさい。

11

- ① 「おうみなかしょう」駅からマキノ町大沼にかけては、畑作地域のみが広がっている。
 ② 今津町深清水には、水がわきでている地図記号があり、温泉が見られる。
 ③ 今津町深清水からマキノ町大沼へかけての集落には、神社や寺院が見られる。
 ④ マキノ町新保から南東の方角に今津町深清水がある。

(4) 地形図中にDで示した地形の名称とその特色の組み合わせとして最も適当なものを次の①～④のうちから一つ選び、その番号をマークしなさい。

12

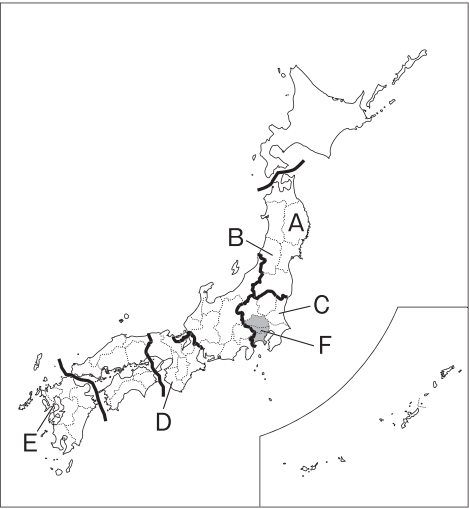
- ① 扇状地：水はけが良い ② 扇状地：水はけが悪い
 ③ 三角州：水はけが良い ④ 三角州：水はけが悪い

3. 右の地図を見て、次の問いに答えなさい。

- (1) 地図中に——で示した7地方区分のうちの、関東地方について述べた次の文章中の (X), (Y) にあてはまる数の組み合わせとして最も適当なものをあとの①～⑥のうちから一つ選び、その番号をマークしなさい。

13

関東地方は、日本の国土面積約38万km²の約 (X) の面積がある地方であり、そこに、日本の総人口約1.3億人の約 (Y) の人口が住んでいる。



- ① X : 5分の1 Y : 2分の1
- ② X : 10分の1 Y : 3分の1
- ③ X : 20分の1 Y : 5分の1
- ④ X : 5分の1 Y : 3分の1
- ⑤ X : 10分の1 Y : 5分の1
- ⑥ X : 20分の1 Y : 2分の1

- (2) 地図中にAで示した都道府県について述べた文として最も適当なものを次の①～④のうちから一つ選び、その番号をマークしなさい。

14

- ① 都道府県庁所在地は、明治時代に開拓使によって碁盤目状の街並みとしてつくられた。
- ② リアス海岸では、養殖が盛んであり、湾岸には原子力発電所が多くつくられている。
- ③ 稲作がさかんであり、例年、米の生産量の1位、2位を争っている。
- ④ 世界文化遺産があり、県庁所在都市は、伝統的工芸品の南部鉄器が有名である。

- (3) 次の表中のI～IVは、地図中にB～Eで示したいずれかの県の項目別農業産出額と海面漁業産出額(2016年)をまとめたものです。B、Eの県にあてはまるものの組み合わせとして最も適当なものをあとの①～⑧のうちから一つ選び、その番号をマークしなさい。

15

県	米 (億円)	野菜 (億円)	果実 (億円)	海面漁業 (億円)
I	76	173	702	155
II	127	513	138	974
III	794	2,150	126	187
IV	804	423	690	29

(2019年版「県勢」より)

- ① B : I E : II ② B : I E : III ③ B : II E : III ④ B : II E : IV
- ⑤ B : III E : I ⑥ B : III E : IV ⑦ B : IV E : I ⑧ B : IV E : II

(4) 地図中Fで示した工業地帯の特色について述べた文として最も適当なものを次の①～④のうちから一つ選び、その番号をマークしなさい。

16

- ① かつては日本一の工業出荷額を誇り、機械工業や化学工業の割合が高い。
- ② 埋立地に石油化学コンビナートが並び、化学工業の割合が日本一大きい。
- ③ ここは、日本の輸出品の中心である輸送用機械を中心に、機械工業の割合が日本一大きい。
- ④ ここは、水力発電の電力利用が多く、伝統工業としての繊維品などの生産がさかんである。

(5) 地図中の中部地方について述べた文として不適当なものを次の①～④のうちから一つ選び、その番号をマークしなさい。

17

- ① 太平洋岸は、沖を流れる寒流のため冷害を受けやすいが、漁業はさかんである。
- ② 夏の冷涼な気候を生かしたレタスなどの高原野菜を栽培する農業がさかんである。
- ③ 高速道路や新幹線が通り、国際空港もあり、交通の便がよい。
- ④ 水はけのよい台地で茶の栽培がさかんな県があり、茶の生産量は日本一である。

(6) 次の表Ⅰは国内総生産額とその産業別内訳の変化、表Ⅱは就業者人口とその産業別割合の変化を表したものです。この2つの表から読みとれることとして最も適当なものをあとの①～④のうちから一つ選び、その番号をマークしなさい。

18

表Ⅰ

	国内総生産額(十億円)			
	第1次産業	第2次産業	第3次産業	合計
1960年	2,101	6,675	6,441	16,010
1980年	8,778	91,684	128,302	242,839
2000年	8,896	149,196	309,971	502,990
2015年	5,907	110,538	415,541	531,986

表Ⅱ

	就業者人口(万人)と就業者人口に占める産業別割合(%)			
	第1次産業(%)	第2次産業(%)	第3次産業(%)	合計(万人)
1960年	32.7	29.1	38.2	4,404
1980年	10.9	33.6	55.4	5,581
2000年	5.0	29.5	69.3	6,298
2015年	4.0	25.0	71.0	5,892

(表Ⅰ、表Ⅱはともに2019/20「日本国勢図会」などより)

- ① 国内総生産額合計は増え続けており、産業別でも生産額は増え続けている。
- ② 第1次産業は、産業別生産額、就業者数のどちらも、すべての年において他産業より少ない。
- ③ 第2次産業の生産額は、2015年は2000年よりも300兆円以上減っている。
- ④ 第3次産業の就業者数は、2015年は1960年の2倍以上の人数となっている。

4. 次の表は、各時代に起きたできごとを年代の古い順にまとめたものです。これについて、あとの問いに答えなさい。

a 弥生時代	倭の国が中国に使いをおくった。
飛鳥時代	倭は、朝鮮半島に軍勢を送り、b 白村江で戦ったが敗れた。
奈良時代	律令国家としてc 税制度をはじめ、さまざまな制度を整えた。
d 鎌倉時代	藤原定家が（ e ）を編集し、（ f ）が曹洞宗を開いた。
g 室町時代	足利義政のあとつぎ問題などをめぐり、応仁の乱が起きた。
安土桃山時代	h 織田信長や豊臣秀吉が、全国統一へ向けて各地で戦った。
i 江戸時代	j 19世紀の文化・文政時代には、k 江戸を中心に文化が発展した。

(1) 下線部 a に関して、この時代のようなすについて述べた文として最も適当なものを次の①～④のうちから一つ選び、その番号をマークしなさい。

19

- ① 稲作が行われ、青銅器や鉄器などの金属器が使用されていた。
- ② 打製石器を使用し始め、槍でナウマンゾウやマンモスなどを狩猟していた。
- ③ 表面に縄目の模様がついた土器をつくり始め、狩猟や採集、漁業で暮らしていた。
- ④ 朝鮮半島から移り住んだ人々によって、儒教や仏教が伝えられた。

(2) 下線部 b に関して、この戦いについて述べた次の文章中の（ X ）～（ Z ）にあてはまる語句の組み合わせとして最も適当なものをあとの①～⑥のうちから一つ選び、その番号をマークしなさい。

20

倭は、朝鮮半島の（ X ）を支援するために大軍を送ったが、（ Y ）と（ Z ）の連合軍と戦って敗れ、朝鮮半島から手を引くこととなった。そして、7世紀後半には（ Z ）が朝鮮半島を統一した。

- ① X：奴国 Y：秦 Z：高麗 ② X：奴国 Y：秦 Z：新羅
- ③ X：奴国 Y：秦 Z：高句麗 ④ X：百済 Y：唐 Z：高麗
- ⑤ X：百済 Y：唐 Z：新羅 ⑥ X：百済 Y：唐 Z：高句麗

(3) 下線部 c に関して、人々の負担した税について述べた文として最も適当なものを次の①～④のうちから一つ選び、その番号をマークしなさい。

21

- ① 稲の収穫量の約30%を納める租を課せられた。
- ② 労役の代わりに布を納める庸を課せられた。
- ③ 地方の特産物を都へ納める雑徭が課せられた。
- ④ 男子には、九州北部の警備にあたる調が課せられた。

(4) 下線部 d に関して、この時代に起きた次の I～Ⅲのできごとを年代の古い順に並べたものとして最も適当なものをあとの①～⑥のうちから一つ選び、その番号をマークしなさい。

22

I 京都に朝廷を監視するために六波羅探題が置かれた。

II 後鳥羽上皇が、幕府打倒を目指して兵をあげた。

III 武士の社会の慣習に基いた御成敗式目が定められた。

① I—II—III ② I—III—II ③ II—I—III

④ II—III—I ⑤ III—I—II ⑥ III—II—I

(5) (e), (f) にあてはまる語句の組み合わせとして最も適当なものを次の①～④のうちから一つ選び、その番号をマークしなさい。

23

① e : 『古今和歌集』 f : 榮西 ② e : 『新古今和歌集』 f : 榮西

③ e : 『古今和歌集』 f : 道元 ④ e : 『新古今和歌集』 f : 道元

(6) 下線部 g に関して、この時代のことがらについてまとめた次の I, II の文の正誤の組み合わせとして最も適当なものをあとの①～④のうちから一つ選び、その番号をマークしなさい。

24

I 足利義満は京都の北山の別荘に金閣を建て、勘合符を用いた貿易を始めた。

II 東廻り航路や西廻り航路などの海運が発達し、大商人は株仲間という同業者組合をつくった。

① I : 正 II : 正 ② I : 正 II : 誤 ③ I : 誤 II : 正 ④ I : 誤 II : 誤

(7) 下線部 h に関して、この2人の人物が行った次のA～Dのできごとを年代の古い順に並べたものとして最も適当なものをあとの①～⑧のうちから一つ選び、その番号をマークしなさい。

25

A 甲斐の大名の武田勝頼と、鉄砲を使用した戦法で戦う。

B バテレン追放令を出し、宣教師の国外追放を命じる。

C 足利義昭を京都から追放し、室町幕府を滅ぼす。

D 桶狭間で、駿河の大名の今川義元と戦う。

① A—B—C—D ② A—C—B—D ③ B—A—D—C

④ B—C—A—D ⑤ C—A—B—D ⑥ C—B—A—D

⑦ D—A—B—C ⑧ D—C—A—B

(8) 下線部 i に関して、この時代の幕府のしくみについて述べた次の文章中の (X), (Y) にあてはまる語句の組み合わせとして最も適当なものをあとの①～④のうちから一つ選び、その番号をマークしなさい。

26

政治は、将軍の下で常置の (X) が行い、若年寄が補佐をした。また、寺社奉行、町奉行、(Y) が三奉行として政治を分担した。

① X : 老中 Y : 勘定奉行 ② X : 老中 Y : 遠国奉行

③ X : 大老 Y : 勘定奉行 ④ X : 大老 Y : 遠国奉行

(9) 下線部 j に関して、19世紀の世界のできごとについて述べた文として不適当なものを次の①～④のうちから一つ選び、その番号をマークしなさい。

27

- ① アメリカ合衆国で、貿易制度などをめぐって北部と南部の州の間で、戦争が起きた。
- ② 中国で、イギリスとの間でアヘンが原因となり、アヘン戦争が起きた。
- ③ インドで、イギリス東インド会社に対してインド人兵士の反乱が起きた。
- ④ フランスで、バスティーユ牢獄の襲撃をきっかけとして革命が始まった。

(10) 下線部 k に関して、この文化について述べた次の文中の (X), (Y) にあてはまる語句の組み合わせとして最も適当なものをあとの①～④のうちから一つ選び、その番号をマークしなさい。

28

鈴木春信が (X) と呼ばれる多色刷りの浮世絵の版画を始め、(Y) は、風景画の富嶽三十六景などの作品を残した。

- ① X : 大和絵 Y : 葛飾北斎
- ② X : 大和絵 Y : 歌川 (安藤) 広重
- ③ X : 錦絵 Y : 葛飾北斎
- ④ X : 錦絵 Y : 歌川 (安藤) 広重

5. 右の年表を見て、次の問いに答えなさい。

(1) 下線部 a に関して、これよりも前に起きたできごとについて述べた文として不適当なものを次の①～④のうちから一つ選び、その番号をマークしなさい。

29

- ① 徴兵令が出される。
- ② 内閣制度ができる。
- ③ 自由党が結成される。
- ④ 第1回帝国議会が開かれる。

(2) 下線部 b に関して、この条約の内容について述べた文として最も適当なものを次の①～④のうちから一つ選び、その番号をマークしなさい。

30

- ① 北緯50度以南の樺太を日本が得る。
- ② 台湾・澎湖諸島を日本が得る。
- ③ 日本は関税自主権を取り戻す。
- ④ 朝鮮を独立国として認める。

(3) 下線部 c に関して、この戦争やその影響について述べた次の文章中の (X) ～ (Z) にあてはまる語句の組み合わせとして最も適当なものをあとの①～⑥のうちから一つ選び、その番号をマークしなさい。

31

年	できごと
1868	五箇条の御誓文が出される ①
1889	a <u>大日本帝国憲法が發布される</u> ②
1905	b <u>ポーツマス条約が結ばれる</u> ③
1914	c <u>第一次世界大戦が始まる</u> ④
1925	治安維持法が制定される ↑ d ↓
1951	e <u>サンフランシスコ平和条約が結ばれる</u>
1955	f <u>第1回原水爆禁止世界大会が開かれる</u>

「ヨーロッパの火薬庫」と呼ばれていたバルカン半島での、(X) の皇太子夫妻暗殺事件をきっかけに大戦が始まり、各国は、国民、資源、経済力や科学兵器を使い、社会全体を戦争協力に巻き込む (Y) となった。大戦後、民族自決の考えから、中国では帝国主義に反対する (Z) が起きた。

- ① X：サラエボ Y：国力戦 Z：レジスタンス
- ② X：サラエボ Y：総力戦 Z：五・四運動
- ③ X：サラエボ Y：持久戦 Z：三・一独立運動
- ④ X：オーストリア Y：国力戦 Z：レジスタンス
- ⑤ X：オーストリア Y：総力戦 Z：五・四運動
- ⑥ X：オーストリア Y：持久戦 Z：三・一独立運動

(4) 年表中のdで示した期間に起きた次のⅠ～Ⅲのできごとを年代の古い順に並べたものとして最も適切なものをあとの①～⑥のうちから一つ選び、その番号をマークしなさい。

32

- Ⅰ 国家総動員法が制定された。
- Ⅱ 盧溝橋事件をきっかけに日中戦争が始まった。
- Ⅲ 陸軍の青年将校が、東京の中心部を占拠した。

- ① Ⅰ—Ⅱ—Ⅲ ② Ⅰ—Ⅲ—Ⅱ ③ Ⅱ—Ⅰ—Ⅲ
- ④ Ⅱ—Ⅲ—Ⅰ ⑤ Ⅲ—Ⅰ—Ⅱ ⑥ Ⅲ—Ⅱ—Ⅰ

(5) 下線部eに関して、この条約について述べた次の文章中の(X), (Y)にあてはまる語句の組み合わせとして最も適切なものをあとの①～④のうちから一つ選び、その番号をマークしなさい。

33

日本の全権代表の(X)首相らが出席し、アメリカ合衆国のサンフランシスコで、連合国の48か国との間で講和条約が結ばれた。そして、同日、(Y)も結ばれた。

- ① X：吉田茂 Y：日中平和友好条約 ② X：吉田茂 Y：日米安全保障条約
- ③ X：池田勇人 Y：日中平和友好条約 ④ X：池田勇人 Y：日米安全保障条約

(6) 下線部fに関して、これよりもあとに起きたできごとについて述べた文として不適当なものを次の①～④のうちから一つ選び、その番号をマークしなさい。

34

- ① 第4次中東戦争がきっかけとなり、石油危機が起きた。
- ② アジア初のオリンピック・パラリンピックが東京で開かれた。
- ③ 中華人民共和国が成立した。
- ④ 日本が国際連合に加盟した。

(7) 米騒動が起きた時期として最も適切なものを年表中の①～④のうちから一つ選び、その番号をマークしなさい。

35

6. 次の文章を読んで、あとの問いに答えなさい。

2019年1月28日に召集、6月26日に閉会した第198回通常国会では、アイヌの人々を先住民族として初めて明記したアイヌ新法が、それまでのアイヌ文化振興法に代わって成立した。a国際社会での先住民の権利を認める動きの中、日本国憲法は、b基本的人権を認めているが、アイヌの人々の先住民としての誇り、人権を認める方向へさらに前進した。会期末の6月24日には、c参議院で内閣への問責決議案が、6月25日にd衆議院で内閣不信任案がいずれも否決された。

また、人権に対して、5月28日に、仙台地方裁判所は、e旧優生保護法により、知的障害を理由とした不妊手術の強制は人権を無視したものだ、として旧優生保護法に違憲判決を下している。

f裁判所は国家機関の一部であるが、地方裁判所は簡易裁判所や家庭裁判所と並び、g地方住民の人権その他の争いごとを法に基づき裁く機関として重要な役割を果たしている。

- (1) 下線部aに関して、国際連合で人権に関して採択された次のⅠ～Ⅲを年代の古い順に並べたものとして最も適当なものをあとの①～⑥のうちから一つ選び、その番号をマークしなさい。 36

Ⅰ 子ども（児童）の権利条約

Ⅱ 女子差別撤廃条約

Ⅲ 国際人権規約

- ① Ⅰ—Ⅱ—Ⅲ ② Ⅰ—Ⅲ—Ⅱ ③ Ⅱ—Ⅰ—Ⅲ
④ Ⅱ—Ⅲ—Ⅰ ⑤ Ⅲ—Ⅰ—Ⅱ ⑥ Ⅲ—Ⅱ—Ⅰ

- (2) 下線部bに関して、憲法第25条で定められている内容として最も適当なものを次の①～④のうちから一つ選び、その番号をマークしなさい。 37

- ① 国際紛争を解決するための武力行使はせず、国の交戦権を認めない。
② 健康で文化的な最低限度の生活を営む権利を保障している。
③ 天皇の国事行為には、内閣の助言と承認を必要とする。
④ 国民は法の下に平等であり、人種や性別などで政治的、社会的に差別されない。

- (3) 下線部cに関して、参議院も衆議院もともに、比例代表制で議員の一部が選出されている。比例代表制において、次の資料のような投票結果であった場合、各政党の当選者数の組み合わせとして最も適当なものをあとの①～④のうちから一つ選び、その番号をマークしなさい。 38

政党名	X	Y	Z	議員定数5名
獲得票数	60,000	39,000	48,000	

- ① X：3名 Y：0名 Z：2名 ② X：3名 Y：1名 Z：1名
③ X：2名 Y：1名 Z：2名 ④ X：2名 Y：2名 Z：1名

- (4) 下線部dに関して、衆議院の優越として不適当なものを次の①～⑥のうちから一つ選び、その番号をマークしなさい。 39

- ① 憲法改正の発議 ② 予算の議決 ③ 条約の承認 ④ 内閣総理大臣の指名
⑤ 法律案の議決 ⑥ 内閣不信任の決議

- (5) 下線部 e に関して、この法律について述べた文の内容と関係の深い、現在の省をあとの①～④のうちから一つ選び、その番号をマークしなさい。

40

旧優生保護法は、優生上の見地から、「不良な子孫の出生」を防止するとともに、女性（母性）の生命・健康を保護することを目的に、「生まれる」「産む」権利を強制的に制限し、奪おうとした法律であった。女性（母親）の健康保護の観点からも制定された。

- ① 財務省 ② 外務省 ③ 国土交通省 ④ 厚生労働省

- (6) 下線部 f に関して、裁判所についてまとめた次の I、II の文の正誤の組み合わせとして最も適切なものをあとの①～④のうちから一つ選び、その番号をマークしなさい。

41

I 裁判官は、良心に従って独立して職権を行い、憲法と法律にのみ拘束される。

II 刑事裁判は、原告が被疑者を被告として裁判所に訴えることで始まる。

- ① I：正 II：正 ② I：正 II：誤 ③ I：誤 II：正 ④ I：誤 II：誤

- (7) 下線部 g に関して、地方公共団体の住民が直接に地方自治に参加する制度としての直接請求権について、次の文章中の（ X ）～（ Z ）にあてはまる語句の組み合わせとして最も適切なものをあとの①～⑥のうちから一つ選び、その番号をマークしなさい。

42

住民が地方議会の解散を請求する場合、その地方公共団体の有権者の（ X ）の署名を集め、（ Y ）へ請求する。請求を受けた（ Y ）は、その後、住民投票を行う。そして、有効投票の（ Z ）の同意があれば議会は解散される。

- ① X：50分の1以上 Y：首長 Z：4分の1以上
② X：50分の1以上 Y：首長 Z：過半数
③ X：50分の1以上 Y：首長 Z：3分の2以上
④ X：3分の1以上 Y：選挙管理委員会 Z：4分の1以上
⑤ X：3分の1以上 Y：選挙管理委員会 Z：過半数
⑥ X：3分の1以上 Y：選挙管理委員会 Z：3分の2以上

7. 次の表は、ある中学生が公民分野の学習についてまとめたものの一部です。これを見て、あとの問いに答えなさい。

家計	家庭の収入と支出。 a <u>アメリカ合衆国</u> を手本に日本も b <u>消費者保護行政</u> の制度を整える。
企業	生産活動に携わる。 c <u>株式会社</u> が多い。大企業の d <u>労働者</u> は全労働者の約30%。
景気	e <u>好景気と不景気</u> をくり返す。 f <u>外国為替相場</u> による景気の影響も出る。
政府	g <u>税金</u> をもとに、 h <u>財政政策</u> を通じて、経済の調整を行う。

(1) 下線部 a に関して、アメリカ合衆国大統領のケネディは、1962年に「消費者の四つの権利」を主張した。この権利として不適当なものを次の①～④のうちから一つ選び、その番号をマークしなさい。

43

- ① プライバシーの権利 ② 意見を反映させる権利
③ 選ぶ権利 ④ 安全を求める権利

(2) 下線部 b に関して、わが国の消費社会、消費者保護制度について述べた文として最も適当なものを次の①～④のうちから一つ選び、その番号をマークしなさい。

44

- ① インターネットの普及により、店頭購入より価格の高い商品をすぐに購入することができる。
② 電子マネーの普及により、現金通貨がなくなり、預金通貨のみとなっている。
③ 製造品の欠陥が原因で被害が生じた場合、消費者救済を命じたCSR制度がある。
④ 訪問販売で消費者が購入契約をした場合、契約解除ができるクーリング・オフ制度がある。

(3) 下線部 c に関して、株式会社についてまとめた次の I、II の文の正誤の組み合わせとして最も適当なものをあとの①～④のうちから一つ選び、その番号をマークしなさい。

45

I 株主は、株主総会に出席し、1人に1票ある議決権を行使することができる。

II 株価は、その会社の業績が悪化すると、株式を売ろうとする人が増えるため安くなる。

- ① I：正 II：正 ② I：正 II：誤 ③ I：誤 II：正 ④ I：誤 II：誤

(4) 下線部 d に関して、労働基準法の内容について述べた次の文中の (X), (Y) にあてはまる数字の組み合わせとして最も適当なものをあとの①～④のうちから一つ選び、その番号をマークしなさい。

46

使用者は、休憩時間を除いて、労働者に1週間につき (X) 時間を超えて労働させてはならず、1日につき (Y) 時間を超えて労働させてはならないと定めている。

- ① X：48 Y：8 ② X：48 Y：6 ③ X：40 Y：8 ④ X：40 Y：6

(5) 下線部 e に関して、好景気時の様子について述べた文として最も適当なものを次の①～④のうちから一つ選び、その番号をマークしなさい。

47

- ① 物価が上昇し、失業者が減る。 ② 物価が上昇し、失業者が増える。
③ 物価が下落し、失業者が減る。 ④ 物価が下落し、失業者が増える。

(6) 下線部 f に関して、1 ドル = 100 円の状態から、20 円の円安になったときの日本国内の状態について述べた文として最も適当なものを次の①～④のうちから一つ選び、その番号をマークしなさい。関税、手続きの費用などは考えないものとする。 48

- ① 2 ドルの海外製品は日本国内では160円になるので、同一種の日本国内企業の製品の方が売れやすくなる。
- ② 2 ドルの海外製品は日本国内では240円になるので、同一種の日本国内企業の製品の方が売れやすくなる。
- ③ 2 ドルの海外製品は日本国内では160円になるので、同一種の日本製品よりもその輸入品のほうが日本国内では売れやすくなる。
- ④ 2 ドルの海外製品は日本国内では240円になるので、同一種の日本製品よりもその輸入品のほうが日本国内では売れやすくなる。

(7) 下線部 g に関して、次の資料は、2013年度と2018年度の歳入に占める国税の内訳を示したものである。この資料から読み取れることについて述べたあとのA～Dの文のうち、正しく述べているものの組み合わせを下の①～⑨のうちから一つ選び、その番号をマークしなさい。 49

2013年度 歳入に占める国税の内訳 (億円)

	直接税	270,995	間接税	197,195
内 訳	所得税	138,980	消費税	106,490
	法人税	87,140	酒税	13,470
	相続税	14,950	関税	8,970
計	468,190			

(億円) (2014/15「日本国勢図会」より)

2018年度 歳入に占める国税の内訳 (億円)

	直接税	365,066	間接税	263,366
内 訳	所得税	190,200	消費税	175,580
	法人税	121,670	酒税	13,110
	相続税	22,400	関税	10,220
計	628,432			

(億円) (2019/20「日本国勢図会」より)

- A 2018年度の合計金額は、2013年度の合計金額の1.5倍以上となっている。
- B 2つの年度を比べると、直接税の金額の増加額の方が、間接税の金額の増加額よりも多い。
- C 2つの年度を比べると、関税の伸び率は200%であり、これより伸び率の高いものはない。
- D 消費税は、2018年度の方が2013年度よりも、間接税中に占める割合が大きくなっている。

- ① A, B
- ② A, C
- ③ A, D
- ④ B, C
- ⑤ B, D
- ⑥ C, D
- ⑦ A, B, D
- ⑧ A, C, D
- ⑨ B, C, D

(8) 下線部 h に関して、好景気時に政府が行う財政政策について述べた文として最も適当なものを次の①～④のうちから一つ選び、その番号をマークしなさい。 50

- ① 国債などを銀行から買いあげ、市中に流通する通貨量を増やそうとする政策を行う。
- ② 国債などを銀行へ売りはらい、市中に流通する通貨量を減らそうとする政策を行う。
- ③ 減税を行い、市中に流通する通貨量を増やそうとする政策を行う。
- ④ 増税を行い、市中に流通する通貨量を減らそうとする政策を行う。

