

2022年度 入学試験 学特入試Ⅱ

社 会

※問題は1ページから15ページまであります。

※マークシートに、受験番号・氏名・性別・科目を正しく記入してください。

※解答は、すべてマークシートに記入してください。

※書き誤りをしたときは、きれいに消してから、新しい解答を書いてください。

学 特 入 試 Ⅱ	受 験 番 号		氏 名	
-----------------------	------------------	--	------------	--

高崎健康福祉大学高崎高等学校

1. 次の地図を見て、あとの問いに答えなさい。ただし、緯線は赤道から20度ごと、経線は本初子午線から20度ごとに引いてあるものとします。

(1) 東京からの距離が、近い都市から順に並べたものを次の①～⑥のうちから一つ選び、その番号をマークしなさい。

1

- ① ニューヨーク→リヤド→ブエノスアイレス
- ② リヤド→ブエノスアイレス→ニューヨーク
- ③ ブエノスアイレス→ニューヨーク→リヤド
- ④ ニューヨーク→ブエノスアイレス→リヤド
- ⑤ ブエノスアイレス→リヤド→ニューヨーク
- ⑥ リヤド→ニューヨーク→ブエノスアイレス

(2) 次の表1は、地図中の①～④のいずれかの都市の、気温と降水量を示したものです。あてはまる都市を一つ選び、その番号をマークしなさい。

2

表1

	1月	2月	3月	4月	5月	6月	7月	8月	9月	10月	11月	12月
気温 (°C)	21.0	21.1	19.8	17.3	15.0	12.8	12.2	12.7	14.4	16.3	18.3	20.1
降水量 (mm)	10.1	15.0	13.5	47.4	80.7	93.4	91.5	78.2	44.6	35.3	23.1	13.0

(「データブック オブ・ザ・ワールド2021年版」より)

(3) 東京の羽田空港を、2月11日午後4時に出発した航空機は、サンフランシスコの国際空港に、現地の2月11日午前9時に到着しました。飛行時間を次の①～④のうちから一つ選び、その番号をマークしなさい。なお、サンフランシスコの標準時子午線はサンフランシスコの最も近くを通る経線とし、サマータイムは考えないものとします。

3

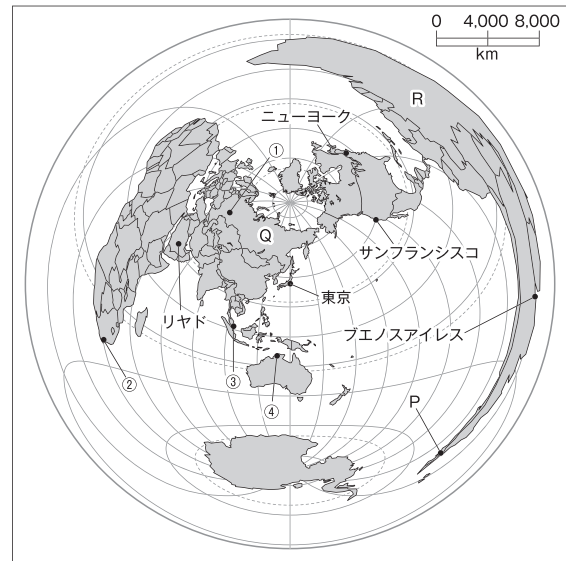
- ① 6時間 ② 10時間 ③ 14時間 ④ 17時間

(4) 地図中にPで示した海峡に関連することを述べた次の文中の (X), (Y) にあてはまる語句の組み合わせとして最も適当なものをあとの①～④のうちから一つ選び、その番号をマークしなさい。

4

スペインの援助を得た (X) 一行は、この海峡を通過して、初めて世界一周を達成した。その後、スペインはアンデス山脈中にあった (Y) を滅ぼした。

- ① X：バスコ・ダ・ガマ Y：アステカ帝国 ② X：マゼラン Y：アステカ帝国
- ③ X：バスコ・ダ・ガマ Y：インカ帝国 ④ X：マゼラン Y：インカ帝国



(5) 地図中にQで示した国について述べた文として不適当なものを次の①～④のうちから一つ選び、その番号をマークしなさい。

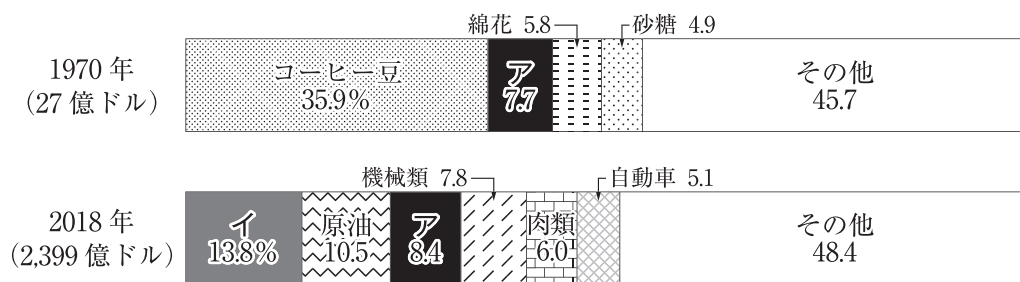
5

- ① 国名は、ロシア革命によりソ連へ、そしてソ連の崩壊によりロシアへと移り変わった。
- ② ウラル山脈をはさんでヨーロッパとアジアにまたがる、世界最大の面積をもつ国である。
- ③ E Uに加盟しており、東ヨーロッパのE U加盟国に天然ガスなどをパイプラインで送っている。
- ④ タイガとよばれる広大な針葉樹林が広がり、木材の輸出が盛んである。

(6) 地図中にRで示した国の、1970年と2018年の主な輸出品目とその割合を示した次のグラフ1中の、ア、イにあてはまるものの組み合わせとして最も適当なものをあとの①～④のうちから一つ選び、その番号をマークしなさい。

6

グラフ1



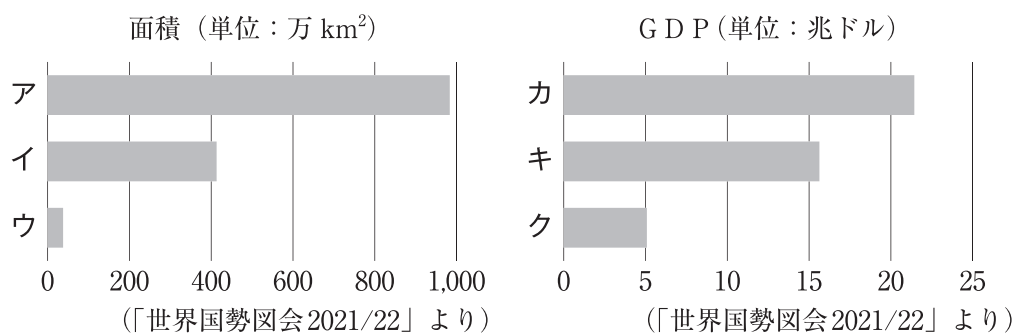
(「UN Comtrade」などより)

- ① ア：鉄鉱石 イ：大豆
- ② ア：石炭 イ：大豆
- ③ ア：鉄鉱石 イ：小麦
- ④ ア：石炭 イ：小麦

(7) 次のグラフ2は、2019年のアメリカ合衆国、E U (27か国)、日本について、面積とGDP (国内総生産) を比較したものです。E Uの組み合わせとして最も適当なものをあとの①～⑨のうちから一つ選び、その番号をマークしなさい。

7

グラフ2



- ① 面積：ア GDP：カ
- ② 面積：ア GDP：キ
- ③ 面積：ア GDP：ク
- ④ 面積：イ GDP：カ
- ⑤ 面積：イ GDP：キ
- ⑥ 面積：イ GDP：ク
- ⑦ 面積：ウ GDP：カ
- ⑧ 面積：ウ GDP：キ
- ⑨ 面積：ウ GDP：ク

(8) 次の表2は、今日の人口上位3か国の人口推移と、世界人口を示したものです。この表2から読み取れることについて述べた文として最も適当なものをあとの①～④のうちから一つ選び、その番号をマークしなさい。

8

表2

国名	1960年	1980年	2000年	2020年
中国	658	983	1,269	1,439
インド	448	700	1,054	1,380
アメリカ合衆国	186	230	282	331
世界人口	3,038	4,453	6,123	7,795

(単位：百万人 「数字で見る日本の100年」などより)

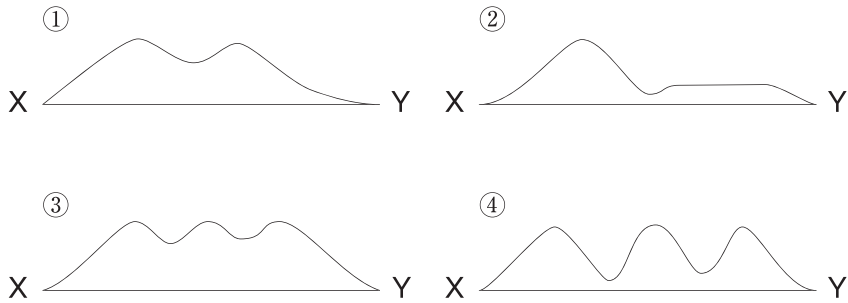
- ① 1960年と2000年は、この3か国の合計人口で、世界人口の50%以上を占めている。
- ② アメリカ合衆国の人口増加数は、2000年から2020年の方が、1980年から2000年よりも多い。
- ③ 2000年から2020年にかけて、人口増加数が多い順に中国、インド、アメリカ合衆国である。
- ④ 1960年と2020年を比べたとき、人口増加割合がもっとも高いのはインドである。

2. 次の2万5千分の1の地形図を見て、あとの問いに答えなさい。



(1) 地形図中のX—Yの断面図を簡略に示したものとして最も適当なものを、次の①～④のうちから一つ選び、その番号をマークしなさい。

9



(2) 地形図から読み取れることについて述べた文として最も適当なものを次の①～④のうちから一つ選び、その番号をマークしなさい。

10

- ① 角山の標高100 m以上では、果樹園が広がっている。
- ② Aの範囲は、地図上で約2cmと約2.5cmの長方形であるので、実際の面積は約1.25km²である。
- ③ Aの範囲内には官公署があるが、警察署は見られない。
- ④ 鎌田池は、宇多津町役場から南東の位置にある。

(3) 瀬戸中央自動車道で結ばれた対岸にある本州側の県の特徴について述べた文として最も適当なものを次の①～④のうちから一つ選び、その番号をマークしなさい。

11

- ① 石油化学コンビナートが広がり、ブドウや桃の生産が盛んである。
- ② 原爆ドームや巖島神社が観光地としてにぎわい、自動車工業やカキの養殖でも有名な県である。
- ③ 阪神工業地帯を形成する県であり、埋め立て地にポートアイランドや空港がつくられている。
- ④ 梨やらっきょう、スイカなどの栽培が盛んであり、平野部に広大な砂丘が広がっている。

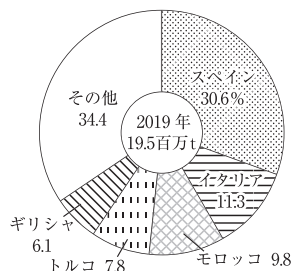
(4) 地形図にある県には、右の世界の生産量とその割合を示したグラフ

グラフ 1

1の農産物の生産で有名な島があります。この農産物として最も適当なものを次の①～④のうちから一つ選び、その番号をマークしなさい。

12

- ① 天然ゴム ② オリーブ ③ カカオ豆 ④ なつめやし



(「世界国勢図会 2021/22」より)

(5) 地形図中の「七十八番郷照寺」は、僧侶空海に関する寺院です。空海について述べた次のⅠ、Ⅱの文の正誤の組み合わせとして最も適当なものをあとの①～④のうちから一つ選び、その番号をマークしなさい。

13

Ⅰ 最澄とともに遣隋使一行に加わって中国にわたり、仏教の修行を積んだ。

Ⅱ 帰国後、高野山に金剛峯寺を建立し、真言宗の修業を続けた。

- ① Ⅰ：正 Ⅱ：正 ② Ⅰ：正 Ⅱ：誤 ③ Ⅰ：誤 Ⅱ：正 ④ Ⅰ：誤 Ⅱ：誤

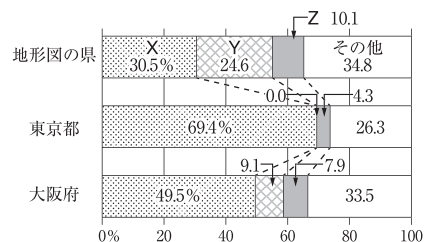
(6) 右のグラフ 2は、この地形図にある県と、東京都、大阪府の2018年度の歳入を示したものです。グラフ 2中の

グラフ 2

(X), ~ (Z) にあてはまる語句の組み合わせとして最も適当なものを次の①～⑥のうちから一つ選び、その番号をマークしなさい。

14

- ① X：国庫支出金 Y：地方交付税交付金 Z：地方税
- ② X：国庫支出金 Y：地方税 Z：地方交付税交付金
- ③ X：地方交付税交付金 Y：地方税 Z：国庫支出金
- ④ X：地方交付税交付金 Y：国庫支出金 Z：地方税
- ⑤ X：地方税 Y：地方交付税交付金 Z：国庫支出金
- ⑥ X：地方税 Y：国庫支出金 Z：地方交付税交付金



(「データでみる県勢 2021」より)

3. 右の地図を見て、次の問いに答えなさい。

(1) 地図中のX・Yの地形名の組み合わせとして最も適当なものを次の①～④のうちから一つ選び、その番号をマークしなさい。 15

- ① X：室戸岬 Y：木曾山脈
- ② X：室戸岬 Y：赤石山脈
- ③ X：足摺岬 Y：木曾山脈
- ④ X：足摺岬 Y：赤石山脈

(2) 地図中の●、■の発電所（2019年）の組み合わせとして最も適当なものを次の①～④のうちから一つ選び、その番号をマークしなさい。 16

- ① ●：火力発電所 ■：水力発電所
- ② ●：火力発電所 ■：原子力発電所
- ③ ●：水力発電所 ■：火力発電所
- ④ ●：水力発電所 ■：原子力発電所

(3) 右のグラフ1は、日本を7地方に区分したときの、面積と人口の割合を示したものです。近畿地方と北海道地方の組み合わせとして最も適当なものを次の①～④のうちから一つ選び、その番号をマークしなさい。 17

- ① 近畿地方：ア 北海道地方：エ
- ② 近畿地方：イ 北海道地方：エ
- ③ 近畿地方：ウ 北海道地方：ア
- ④ 近畿地方：エ 北海道地方：ア

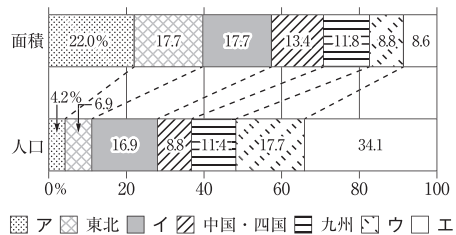
(4) 右のグラフ2は、地図中のP～Sで示した4県の、農業産出額に占める米、野菜、畜産の割合（2018年）を示したものです。Q、Rの県の組み合わせとして最も適当なものを次の①～⑧のうちから一つ選び、その番号をマークしなさい。 18

- ① Q：ア R：イ
- ② Q：ア R：エ
- ③ Q：イ R：ウ
- ④ Q：イ R：ア
- ⑤ Q：ウ R：エ
- ⑥ Q：ウ R：イ
- ⑦ Q：エ R：ア
- ⑧ Q：エ R：ウ



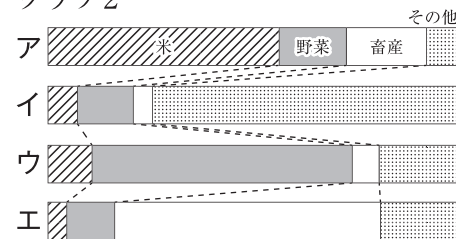
(「データでみる県勢2021」より)

グラフ1



(「住民基本台帳・世帯数表 平成31年版」などより)

グラフ2



(「データでみる県勢2021」より)

(5) 地図中の沖縄県の特色を述べた文として不適當なものを次の①～④のうちから一つ選び、その番号をマークしなさい。

19

- ① サンゴ礁など自然が多いため、第一次産業従事者の割合が日本で最も高い。
- ② 本土復帰後も多くのアメリカ軍基地が残り、日常生活にも多くの影響を及ぼしている。
- ③ 台風の影響を受けやすいため、屋根瓦をしっくいで固めるなどの工夫がされた民家がある。
- ④ 1年を通して高温多雨であり、さとうきびやパイナップルの栽培が盛んである。

(6) 次の表1は、製造品出荷額上位3位までの府県の出荷額と3分野の出荷額（2018年）を、表2は、その3府県の全事業所数と3分野の事業所数（2018年）を示したものです。2つの表から読み取れることについて述べた文として最も適當なものをあとの①～④のうちから一つ選び、その番号をマークしなさい。

20

表1
製造品出荷額上位3位までの府県の出荷額と
3分野の出荷額

	製造品 出荷額	輸送用 機械	金属製品	情報通信 機械
愛知県	489,829	269,549	16,548	1,291
神奈川県	185,700	41,645	6,477	8,758
大阪府	179,052	15,142	17,073	1,653

(億円「データでみる県勢2021」より)

表2
3府県の全事業所数と3分野の事業所数

	全事業所 数	輸送用 機械	金属製品	情報通信 機械
愛知県	28,427	2,441	3,995	48
神奈川県	13,492	814	2,341	230
大阪府	32,011	750	7,125	80

(「データでみる県勢2020」より)

- ① この3府県において、製造品出荷額が多い府県ほど全事業所数が多く、1事業所あたり製造品出荷額が最も多いのは愛知県である。
- ② 愛知県において、1事業所あたりの出荷額が最も多いのは輸送用機械で、最も少ないのは金属製品である。
- ③ 神奈川県においては、事業所数が多い分野ほど、その分野の出荷額が多くなっている。
- ④ 大阪府では、3分野の合計が出荷額でも事業所数でも、ともに大阪府全体の50%を超えている。

4. 次のAさんからFさんまでの6人は歴史上有名な女性で、活躍した年代順に、自らについて語ったものです。これについて、あとの問いに答えなさい。ただし、各問いの時代とは、時代区分とします。

Aさん 私の名前は、当時、次のように記されました。

	<table border="0" style="font-family: monospace;"> <tr><td>1</td><td>2</td><td>3</td><td>4</td><td>5</td><td>6</td><td>7</td><td>8</td><td>9</td></tr> <tr><td>K</td><td>L</td><td>E</td><td>O</td><td>P</td><td>A</td><td>T</td><td>R</td><td>A</td></tr> <tr><td>ク</td><td>レ</td><td>オ</td><td>パ</td><td>ト</td><td>ラ</td><td></td><td></td><td></td></tr> </table>	1	2	3	4	5	6	7	8	9	K	L	E	O	P	A	T	R	A	ク	レ	オ	パ	ト	ラ				(10・11は神聖な人物の名前につけられた文字。)
1	2	3	4	5	6	7	8	9																					
K	L	E	O	P	A	T	R	A																					
ク	レ	オ	パ	ト	ラ																								

Bさん 私は、邪馬台国の女王で、私の名前は、『魏志倭人伝』にも記載されています。

Cさん 私は、天武天皇の妻で、天武の死後、天皇の位に就きました。

Dさん 私は、光源氏を主人公にした源氏物語を書いた女流作家です。

Eさん 私は、北条時政の娘で、源頼朝の妻です。尼將軍として御家人を叱咤激励しました。

Fさん 私は、菱川師宣によって浮世絵に描かれた「見返り美人図」の本人です。

(1) Aさんが生きた地域の古代文明の特色として最も適当なものを次の①～④のうちから一つ選び、その番号をマークしなさい。 21

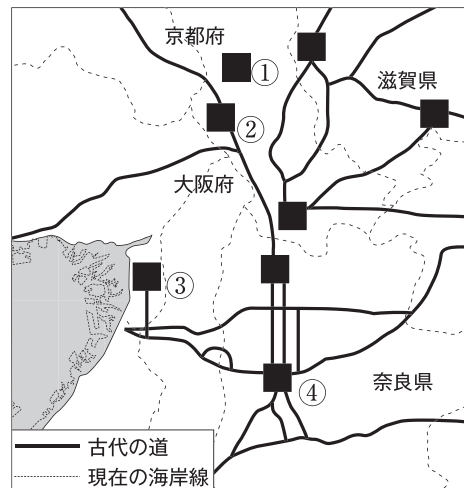
- ① 今日、レンガ造りのモヘンジョ・ダロの都市遺跡が発見されている。
- ② 太陽を基準とし、1年を365日とする太陽暦がつくられた。
- ③ イラクに、都市国家ウルの聖塔であるジグuratが復元されている。
- ④ 亀の甲羅や牛の骨に、占いの結果が文字で刻まれた。

(2) Bさんが生きた時代について述べた次のI、IIの文の正誤の組み合わせとして最も適当なものをあとの①～④のうちから一つ選び、その番号をマークしなさい。 22

I この時代の特色を表す遺跡として、佐賀県の吉野ヶ里遺跡が発掘されている。
 II 近畿地方にあったと考えられる奴国の王が、中国の皇帝から金印を受けられた。

- ① I：正 II：正 ② I：正 II：誤 ③ I：誤 II：正 ④ I：誤 II：誤

(3) Cさんは、新しく都を造りました。その都の位置を右の地図中の①～④のうちから一つ選び、その番号をマークしなさい。 23



(4) Dさんが活躍した時代に起こった次のI～IIIのできごとを年代の古い順に並べたものとして最も適当なものをあとの①～⑥のうちから一つ選び、その番号をマークしなさい。 24

I 藤原頼通が平等院鳳凰堂を建立する。
 II 平清盛が武士として初めて太政大臣となる。
 III 白河上皇が院政を始める。

- ① I—II—III ② I—III—II ③ II—I—III
 ④ II—III—I ⑤ III—I—II ⑥ III—II—I

(5) Eさんが生きた時代について述べた文として不適當なものを次の①～④のうちから一つ選び、その番号をマークしなさい。

25

- ① 草木を焼いた肥料が用いられ、米と麦を作る二毛作が始まった。
- ② 親鸞が浄土真宗を開き、「悪人こそ救われる」と説いた。
- ③ 琵琶法師が『平家物語』を語り、後鳥羽上皇の命令で『新古今和歌集』が編集された。
- ④ 有力農民を中心に惣と呼ばれる自治組織がつくられ、村のおきてなどを定めた。

(6) Fさんが描かれたのは17世紀です。17世紀の日本のできごとについて述べた文として不適當なものを次の①～④のうちから一つ選び、その番号をマークしなさい。

26

- ① 豊臣秀吉が関東の北条氏をほろぼし、全国を統一した。
- ② 徳川家光が、武家諸法度に参勤交代を制度として定めた。
- ③ 徳川綱吉が5代将軍となり、朱子学を中心とする幕府政治を行った。
- ④ 平戸にあったオランダ商館が、長崎の埋め立て地の出島に移された。

(7) CさんとDさんの生きた時代、およびその間に起こったできごととして最も適當なものを次の①～④のうちから一つ選び、その番号をマークしなさい。

27

- ① 後鳥羽上皇が天皇政治を復活させるため、兵を挙げた。
- ② 琉球王国が建国され、日本などとの中継貿易で栄えた。
- ③ 藤原純友が瀬戸内海で反乱を起こした。
- ④ 蝦夷の首長のシャクシャインが乱を起こした。

(8) 次の史料は、農民の訴えたカタカナ書きの文章を、分かりやすく現代語に訳したものです。この史料の文章が出された時代に最も関連が深い人物をあとの①～⑤のうちから一つ選び、その番号をマークしなさい。

28

領主に納める材木のことですが、地頭が上京するとか、あるいは近所の労役だとかいっては、このように人夫として地頭の所でこき使われるので、ひまが無いのです。残りわずかな人を、材木を山から運ぶために送ると、地頭は「にげた百姓の畑に麦をまけ」といって追いもどしてしまいます。……

- ① Bさん ② Cさん ③ Dさん ④ Eさん ⑤ Fさん

5. 右の外交に関係した年表を見て、次の問いに答えなさい。

- (1) 下線部 a に関して、条約締結後、日本とアメリカ合衆国の間での貿易が始まりました。下のグラフは、1865年の日本の輸出品目と、その品目の割合を示したものです。グラフ中の A、B にあてはまる語句の組み合わせとして最も適当なものを次の①～④のうちから一つ選び、その番号をマークしなさい。

29

- ① A：生糸 B：茶
- ② A：毛織物 B：綿織物
- ③ A：茶 B：生糸
- ④ A：綿織物 B：毛織物

- (2) アメリカ合衆国は1861年から1865年まで南北戦争が続いたため、日本との貿易は衰えました。このアメリカ合衆国の南北戦争について次の文中の (X), (Y) にあてはまる語句の組み合わせとして最も適当なものをあとの①～④のうちから一つ選び、その番号をマークしなさい。

30

奴隷制に反対し、工業が発展していた (X) は、(Y) 大統領の指導の下に、この内戦に勝利した。

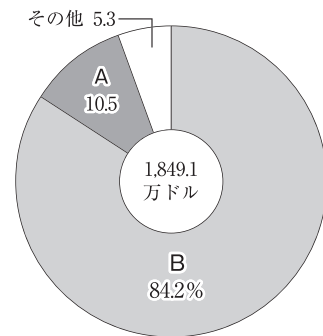
- ① X：北部 Y：ワシントン ② X：北部 Y：リンカン
- ③ X：南部 Y：ワシントン ④ X：南部 Y：リンカン

- (3) 次の図は、中国の遼東半島がどのような状況であったかを示したもので、3つの図は、1895年、1898年、1905年のいずれかのものです。年表を参考に、3つの図を年代の古い順に並べたものとして最も適当なものをあとの①～⑥のうちから一つ選び、その番号をマークしなさい。

31

年	主なできごと
1858	a <u>日米修好通商条約</u> が結ばれる
1894	日清戦争が始まる
1895	下関条約が結ばれる
1904	日露戦争が始まる
1905	ポーツマス条約が結ばれる
1910	韓国併合が行われる
1911	b <u>不平等条約</u> が改正される
1914	c <u>第一次世界大戦</u> が始まる
	↑ d
1945	太平洋戦争が終わる

グラフ



(「日本経済史3 開港と維新」より)

図



- ① I—II—III ② I—III—II
- ③ II—I—III ④ II—III—I
- ⑤ III—I—II ⑥ III—II—I

(4) 下線部bに関して、その時の外相（外務大臣）と、その内容の組み合わせとして最も適当なものを次の①～④のうちから一つ選び、その番号をマークしなさい。

32

- ① 外相：小村寿太郎 内容：治外法権の撤廃 ② 外相：小村寿太郎 内容：関税自主権の回復
③ 外相：陸奥宗光 内容：治外法権の撤廃 ④ 外相：陸奥宗光 内容：関税自主権の回復

(5) 下線部cに関して、「ヨーロッパの火薬庫」と呼ばれた半島の位置を、右の地図中の①～④のうちから一つ選び、その番号をマークしなさい。

33

(6) dの期間に起こった次のⅠ～Ⅲのできごとを年代の古い順に並べたものとして最も適当なものをあとの①～⑥のうちから一つ選び、その番号をマークしなさい。

34

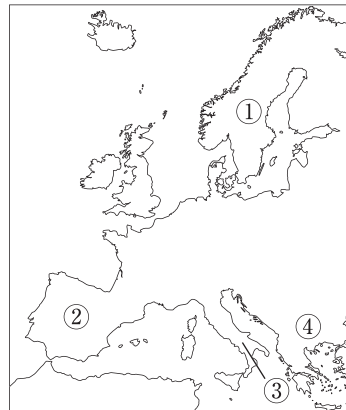
- Ⅰ 陸軍の青年将校らが、首相官邸や国会議事堂周辺を占拠した。
Ⅱ 奉天郊外の柳条湖で、日本の関東軍が南満州鉄道の線路を爆破した。
Ⅲ 海軍の青年将校らが、首相官邸で犬養毅首相を暗殺した。

- ① Ⅰ—Ⅱ—Ⅲ ② Ⅰ—Ⅲ—Ⅱ ③ Ⅱ—Ⅰ—Ⅲ
④ Ⅱ—Ⅲ—Ⅰ ⑤ Ⅲ—Ⅰ—Ⅱ ⑥ Ⅲ—Ⅱ—Ⅰ

(7) 太平洋戦争後の世界と日本について述べた文として不適当なものを次の①～④のうちから一つ選び、その番号をマークしなさい。

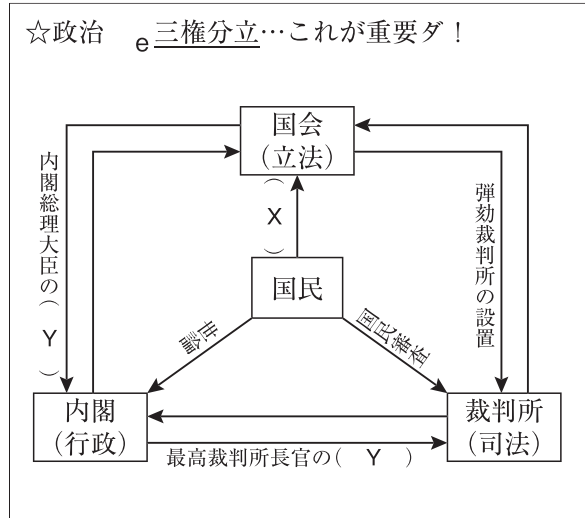
35

- ① 第四次中東戦争の影響を受けて、石油価格が上昇し、石油危機と呼ばれる経済不況が起こった。
② 日本では1980年代後半、株価や地価が異常に高くなるバブル経済と呼ばれる現象が起こった。
③ 1955年、与党の自民党と、社会党を中心とした野党が対立する55年体制が終わった。
④ 米ソ首脳によるマルタ会談で冷戦が終結し、翌年に東ドイツと西ドイツが統一された。



6. 中学生の山田さんは、公民で学んだことの一部をノートに書いてみました。このノートを見て、あとの問いに答えなさい。

☆現代社会の特色
 グローバル化が進む (←世界交流)
 少子高齢化→a 家族の形が変化
 →友人の家もみ～んな核家族
 多文化共生社会
 →身近に外国の人々が多い
 →b 日本文化と外国文化の交流
 ☆人権と日本国憲法
 国民の人権は c 憲法に規定されている
 →d 新しい人権は憲法に書いてないヨ



(1) 下線部 a に関して、次の表から読み取れることについて述べた文として不適当なものをあとの①～④のうちから一つ選び、その番号をマークしなさい。

36

	2015年	2020年	2025年	2030年	2040年
核家族世帯	29,870	30,254	30,034	29,397	27,463
うち 夫婦のみ	10,758	11,101	11,203	11,138	10,715
夫婦と子	14,342	14,134	13,693	13,118	11,824
ひとり親と子	4,770	5,020	5,137	5,141	4,924
単身世帯	18,418	19,342	19,960	20,254	19,944
うち 65歳以上	6,253	7,025	7,512	7,959	8,963
その他の世帯	5,044	4,510	4,123	3,833	3,350
全世帯数合計	53,332	54,107	54,116	53,484	50,757

(単位：千 2020年以降の数値は将来推計。「日本国勢図会 2021/22」より)

- ① 核家族世帯は、2020年が最も多くなり、それ以降は減少傾向にある。
 - ② 核家族世帯のうち、2030年から2040年にかけて最も減少数が多いのは「夫婦と子」世帯である。
 - ③ 「65歳以上」世帯は、2040年は2015年より200万世帯以上の増加が予測されている。
 - ④ 全世帯数合計に占める核家族世帯数は、いずれの年も60%以上である。
- (2) 下線部 b に関して、次のⅠ～Ⅲの日本の文化を説明した文について、年代の古いものから順に並べたものとして最も適当なものをあとの①～⑥のうちから一つ選び、その番号をマークしなさい。

37

- Ⅰ 千利休はわび茶の作法を完成させ、茶の湯を茶道へと高めた。
 - Ⅱ 観阿弥・世阿弥親子が能を大成した。
 - Ⅲ 浮世絵における錦絵とよばれる多色刷りの版画が登場し、東洲斎写楽や喜多川歌麿が活躍した。
- ① Ⅰ—Ⅱ—Ⅲ ② Ⅰ—Ⅲ—Ⅱ ③ Ⅱ—Ⅰ—Ⅲ
 - ④ Ⅱ—Ⅲ—Ⅰ ⑤ Ⅲ—Ⅰ—Ⅱ ⑥ Ⅲ—Ⅱ—Ⅰ

- (3) 下線部cに関して、次の日本国憲法第11条中の、(X), (Y)にあてはまる語句の組み合わせとして最も適当なものをあとの①～④のうちから一つ選び、その番号をマークしなさい。

38

国民は、すべての基本的人権の(X)を妨げられない。この憲法が国民に保障する基本的人権は、侵すことのできない(Y)として、現在及び将来の国民に与えられる。

- ① X：主張 Y：人類普遍の権利 ② X：主張 Y：永久の権利
③ X：享有 Y：人類普遍の権利 ④ X：享有 Y：永久の権利

- (4) 下線部dに関して、この「新しい人権」として不適当なものを次の①～④のうちから一つ選び、その番号をマークしなさい。

39

- ① 請願権 ② 環境権 ③ 知る権利 ④ 自己決定権

- (5) 下線部eに関して、ノートの図中の、(X), (Y)にあてはまる語句の組み合わせとして最も適当なものを次の①～④のうちから一つ選び、その番号をマークしなさい。

40

- ① X：選挙 Y：指名 ② X：選挙 Y：任命
③ X：違憲審査 Y：指名 ④ X：違憲審査 Y：任命

- (6) ノート中の「内閣」に関して、初の内閣総理大臣となった人物について述べた文として最も適当なものを次の①～④のうちから一つ選び、その番号をマークしなさい。

41

- ① 明治天皇から、大日本帝国憲法を手渡された。
② 韓国統監府の初代統監となり、韓国の統治を行った。
③ 立憲改進黨を結成し、のちに初の政党内閣を組閣した。
④ 憲政会の党首となり、普通選挙法を制定した。

- (7) ノート中の「国会」の仕事として最も適当なものを次の①～④のうちから一つ選び、その番号をマークしなさい。

42

- ① 下級裁判所裁判官の任命
② 政令の制定
③ 条約の承認
④ 天皇の国事行為への助言と承認

- (8) ノート中の「裁判所」に関して述べた文として不適当なものを次の①～④のうちから一つ選び、その番号をマークしなさい。

43

- ① 最高裁判所は東京に1か所のみ、高等裁判所は全国に8か所設置されている。
② 刑事裁判で第一審が簡易裁判所で行われた場合、控訴先は地方裁判所となる。
③ 殺人などの事件で、検察官が被疑者を起訴すると、被疑者は被告人と呼ばれる。
④ 裁判員制度は、2021年10月現在、満20歳以上の国民が裁判官とともに刑事裁判を担当する制度である。

7. 中学生の田中さんと、田中さんの社会の先生との会話の文章を読んで、あとの問いに答えなさい。

田中さん：中学3年生の社会の授業は、今日で最後です。ありがとうございました。
 先生：公民の授業で、現代社会の次に勉強した項目を覚えているかな。
 田中さん：人権の歩みです。a 17世紀から20世紀のさまざまな人権に関することを学びました。
 先生：そうだね。その後、b 日本国憲法の成立について勉強したね。
 田中さん：国民のc 義務やd 権利について、前文と103条で構成される日本国憲法のうちの、第10条から第40条までに非常に多く記載されているのにびっくりしました。
 先生：e 国会については、第41条から第64条、f 内閣については第65条から第75条、司法については第76条から第82条、g 地方自治については、第92条から第95条にそれぞれ記載されている。これを見ると日本国憲法が基本的人権をどれだけ重要視しているかが分かるね。

- (1) 下線部aに関して、次のⅠ～Ⅲの文章は、ワイマール憲法、フランス人権宣言、世界人権宣言の一部です。このⅠ～Ⅲを年代の古い順に並べたものとして最も適当なものをあとの①～⑥のうちから一つ選び、その番号をマークしなさい。

44

Ⅰ ワイマール憲法

経済生活の秩序は、すべての人に人間に値する生存を保障することを目指す、正義の諸原則にかなうものでなければならぬ。

Ⅱ フランス人権宣言

人は生まれながらに、自由で平等な権利を持つ。社会的な区別は、ただ公共の利益に関係のある場合にしか設けられてはならない。

Ⅲ 世界人権宣言

すべての人間は、生れながら自由で、尊厳と権利について平等である。人間は、理性と良心とを授けられており、同胞の精神をもって行動しなければならない。

- ① Ⅰ—Ⅱ—Ⅲ ② Ⅰ—Ⅲ—Ⅱ ③ Ⅱ—Ⅰ—Ⅲ
 ④ Ⅱ—Ⅲ—Ⅰ ⑤ Ⅲ—Ⅰ—Ⅱ ⑥ Ⅲ—Ⅱ—Ⅰ

- (2) 下線部bに関して、日本国憲法の公布と施行の年月日の組み合わせとして最も適当なものを次の①～④のうちから一つ選び、その番号をマークしなさい。

45

- ① 公布：1945年11月3日 施行：1946年5月3日
 ② 公布：1946年11月3日 施行：1947年5月3日
 ③ 公布：1945年5月3日 施行：1946年11月3日
 ④ 公布：1946年5月3日 施行：1947年11月3日

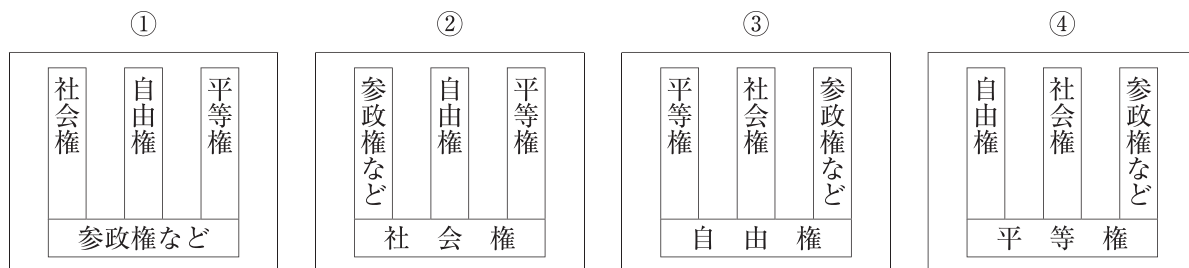
- (3) 下線部cとして不適当なものを次の①～④のうちから一つ選び、その番号をマークしなさい。

46

- ① 勤労の義務 ② 納税の義務
 ③ 兵役の義務 ④ 保護する子女に普通教育を受けさせる義務

(4) 下線部 d に関して、基本的人権の構成を簡略に示した図として最も適当なものを次の①～④のうちから一つ選び、その番号をマークしなさい。

47



(5) 下線部 e に関して、衆議院は参議院よりもいくつかの事項において優越が認められています。その事項として最も適当なものを次の①～④のうちから一つ選び、その番号をマークしなさい。

48

- ① 弾劾裁判の実施 ② 国政調査権の行使 ③ 予算の議決 ④ 憲法改正の発議

(6) 下線部 f に関して、日本においては議院内閣制が採られているのに対して、アメリカ合衆国においては大統領制が採られています。このアメリカ合衆国の大統領制や、大統領と議会の関係について述べた文として最も適当なものを次の①～④のうちから一つ選び、その番号をマークしなさい。

49

- ① 大統領は、国民が選挙で選んだ大統領選挙人による選挙で選ばれる。
 ② 議会は、日本と同じく衆議院と参議院で構成されている。
 ③ 各省の長官（大臣）の過半数は、議会の議員でなければならない。
 ④ 大統領は、議会在議決した法案を拒否することができない。

(7) 下線部 g に関して述べた次の I、II の文の正誤の組み合わせとして最も適当なものをあとの①～④のうちから一つ選び、その番号をマークしなさい。

50

I 地方自治は、「民主主義の学校」と呼ばれる。

II 市長の被選挙権は25歳以上である。

- ① I：正 II：正 ② I：正 II：誤 ③ I：誤 II：正 ④ I：誤 II：誤

