

2022年度 入学試験 学特入試 I

社 会

※問題は[1]ページから[18]ページまであります。

※マークシートに、受験番号・氏名・性別・科目を正しく記入してください。

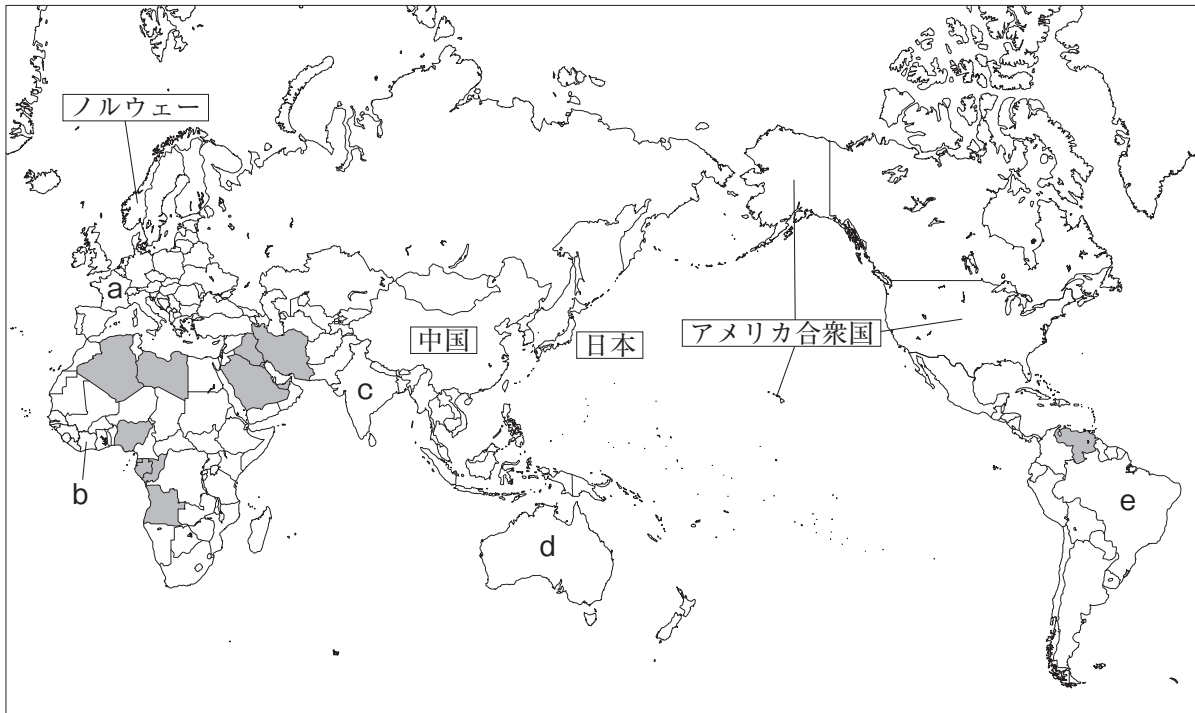
※解答は、すべてマークシートに記入してください。

※書き誤りをしたときは、きれいに消してから、新しい解答を書いてください。

学 特 入 試 I	受 験 番 号		氏 名	
-----------------------	------------------	--	------------	--

高崎健康福祉大学高崎高等学校

1. 次の地図を見て、あとの問いに答えなさい。



(1) 地図中に a で示した国について述べた文として最も適当なものを次の①～④のうちから一つ選び、その番号をマークしなさい。 1

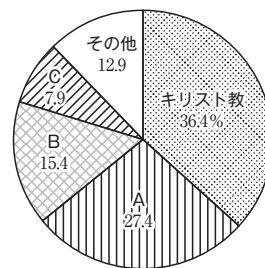
- ① ラテン系言語の国で、小麦の生産がさかんで、穀物の自給率は100%を超えている（2017年）。
- ② 夏は高温で乾燥し、冬は温暖で雨が多いことを利用した地中海式農業が中心である。
- ③ 18世紀後半に世界で初めて産業革命を起こした国で、2020年にEUから離脱した。
- ④ 第二次世界大戦後に東西に分断されていたが、ソ連が崩壊したことで統一された。

(2) 地図中に b で示した国に関して、次の文章中の (X), (Y) にあてはまる語句の組み合わせとして最も適当なものをあとの①～④のうちから一つ選び、その番号をマークしなさい。 2

b の国は輸出総額の約3割（2019年）を (X) が占めている、(Y) 経済の国である。少ない品目の農作物や鉱産資源に依存する国の場合は天候や世界経済の影響を受けやすいため、近年、b の国では隣国のガーナとともに (X) 農家の収入安定をめざしている。

- ① X：カカオ豆 Y：ブロック ② X：カカオ豆 Y：モノカルチャー
- ③ X：コーヒー Y：ブロック ④ X：コーヒー Y：モノカルチャー

(3) 右のグラフは世界の宗教人口割合（2019年）で、グラフ中のA～Cは仏教、イスラム教、ヒन्दゥー教のいずれかがあてはまります。地図中にcで示した国で主に信仰されている宗教について、グラフ中の人口割合と、その宗教の特徴について述べた次のI・IIの文の組み合わせとして正しいものをあとの①～⑥のうちから一つ選び、その番号をマークしなさい。



(「データブック オブ・ザ・ワールド2021年版」より)

I 女性の肌や髪は隠しておくべきとされ、女性はベールを着用している。

II 牛は神の使いとされているため、牛肉を食べない。

- ① グラフ：A 特徴：I ② グラフ：B 特徴：I ③ グラフ：C 特徴：I
 ④ グラフ：A 特徴：II ⑤ グラフ：B 特徴：II ⑥ グラフ：C 特徴：II

3

(4) 地図中にdで示した国に関して、次の文中の (X), (Y) にあてはまる語句の組み合わせとして最も適当なものをあとの①～④のうちから一つ選び、その番号をマークしなさい。

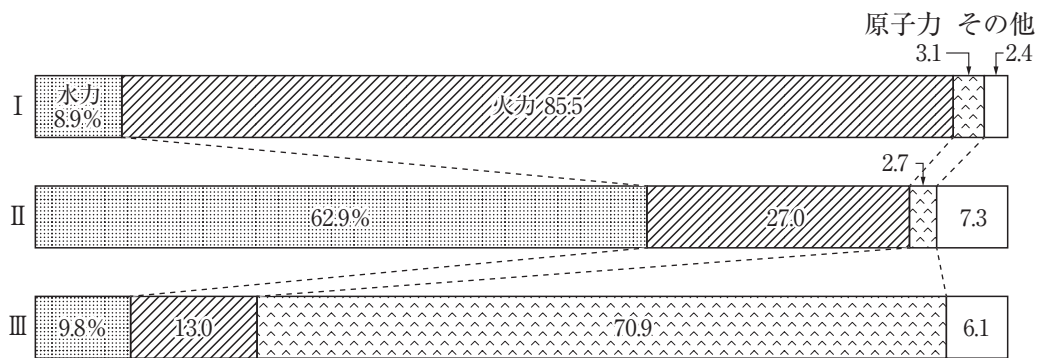
4

この国では、かつて白人を優先し、有色人種の移民を制限する (X) がとられていたが、1970年代半ばから政策が転換され、多様な民族が共存する (Y) を築こうとしている。

- ① X：白豪主義 Y：多文化社会 ② X：アパルトヘイト Y：多文化社会
 ③ X：白豪主義 Y：持続可能な社会 ④ X：アパルトヘイト Y：持続可能な社会

(5) 次のグラフI～IIIは地図中にaで示した国、eで示した国、日本の発電エネルギー源別割合（2017年）を表したものです。I・IIのグラフにあたる国の組み合わせとして最も適当なものを次の①～⑥のうちから一つ選び、その番号をマークしなさい。

5



(合計が100%になるように調整していない。「世界国勢図会2020/21」より)

- ① I：aで示した国 II：eで示した国 ② I：aで示した国 II：日本
 ③ I：eで示した国 II：aで示した国 ④ I：eで示した国 II：日本
 ⑤ I：日本 II：aで示した国 ⑥ I：日本 II：eで示した国

(6) 2021年1月現在、地図中に [] で塗られた国が共通して属している組織として最も適当なものを次の①～④のうちから一つ選び、その番号をマークしなさい。

6

- ① ASEAN ② OPEC ③ BRICS ④ NIES

(7) 次の表は、アメリカ合衆国、中国、日本、ノルウェーの人口とGNI（国民総所得）の移り変わりを表したものです。表から読み取れることについて述べた文として最も適当なものをあとの①～④のうちから一つ選び、その番号をマークしなさい。

7

	人口（単位：千人）	GNI（国民総所得・単位：億ドル）		
	2018年	2000年	2010年	2018年
アメリカ合衆国	326,767	10,383,859	15,126,736	20,837,347
中国	1,415,046	1,199,177	6,061,120	13,556,853
日本	127,185	4,957,338	5,847,341	5,155,424
ノルウェー	5,353	169,045	433,709	452,694

（「世界国勢図会2020/21」などより）

- ① すべての国が2000年から2018年までの期間中、GNIが増え続けている。
- ② 2000年から2018年までに最もGNIを増やした国が、2018年でGNIも最大となっている。
- ③ 2018年において、一人あたりのGNIが最も大きいのはノルウェーである。
- ④ 2018年において、一人あたりのGNIが最も小さいのは日本である。

2. 次の地形図Aは長野県松本市の2015年の縮尺2万5千分の1の地形図で、次ページの地形図Bは同地域の1910年の縮尺2万5千分の1の地形図です。これを見て、あとの問いに答えなさい。

地形図A

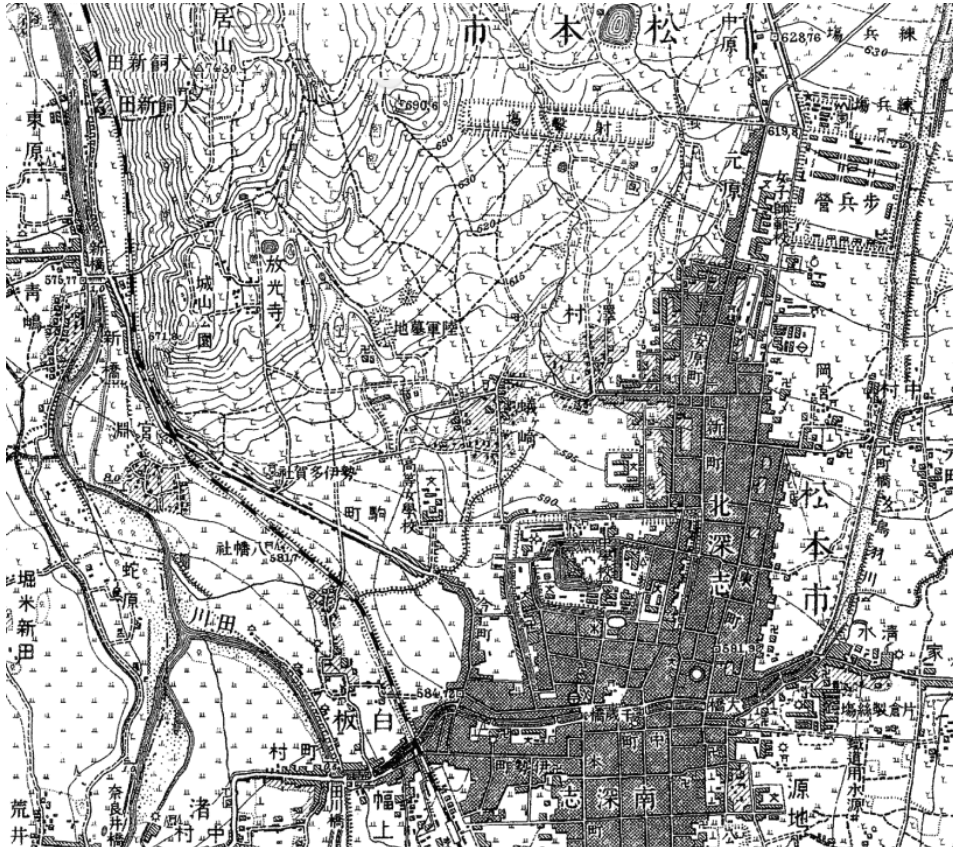


(1) 地形図Aから読み取れることについて述べた文として不適当なものを次の①～④のうちから一つ選び、その番号をマークしなさい。

8

- ① 松本城の周辺には、市役所、消防署、博物館・美術館が位置している。
- ② 交番はあるが、警察署は見られない。
- ③ 市役所と鳥居山山頂の標高差は約150mである。
- ④ 松本市の西部の河川は北から南に向かって流れている。

地形図B



(2) 地形図Aと地形図Bを比較してわかることについて述べた次のⅠ、Ⅱの文の正誤の組み合わせとして最も適当なものをあとの①～④のうちから一つ選び、その番号をマークしなさい。

9

Ⅰ かつての松本市はくわ畑が広がっていたことから、紡績業がさかんだったことがわかる。

Ⅱ 鳥居山の東斜面は西斜面に比べて傾斜がなだらかなので、現在では宅地開発が進んでいる。

① Ⅰ：正 Ⅱ：正 ② Ⅰ：正 Ⅱ：誤 ③ Ⅰ：誤 Ⅱ：正 ④ Ⅰ：誤 Ⅱ：誤

(3) 地形図Aに見られる「旧開智学校」について述べた文として最も適当なものを次の①～④のうちから一つ選び、その番号をマークしなさい。

10

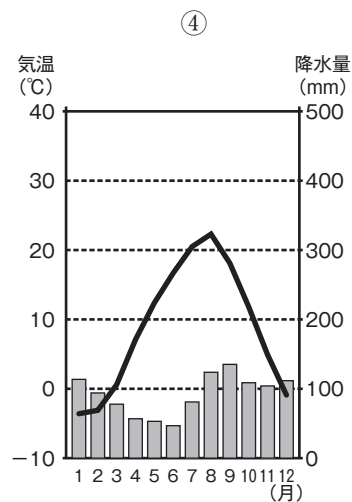
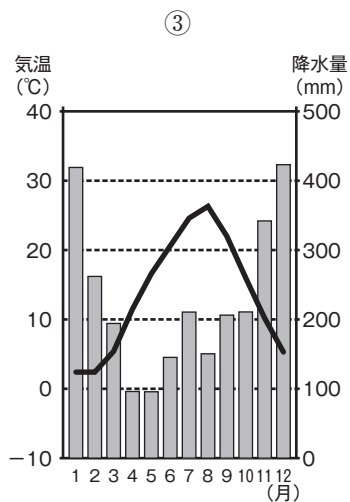
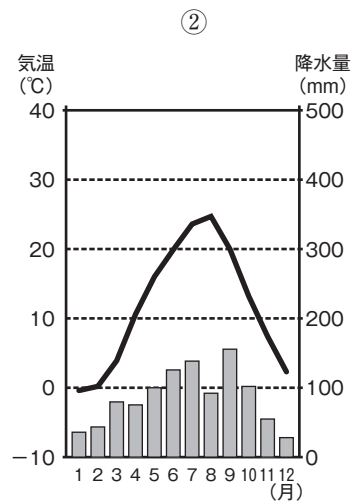
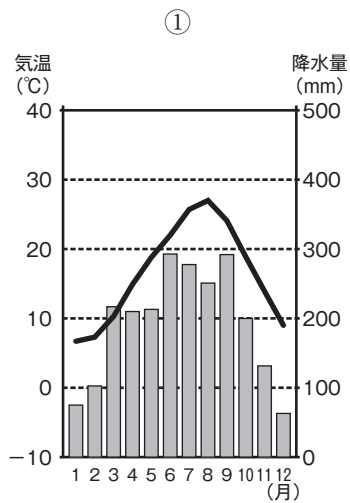
① 室町時代中期に、上杉氏が再興し、「坂東の大学」と呼ばれる教育機関だった。

② 江戸時代に、藩士の子弟の人材育成のために建てられた藩校だった。

③ 江戸時代後期に、緒方洪庵によって開かれた蘭学の私塾だった。

④ 明治時代初期に、住民の寄付などをもとに建てられた小学校だった。

(4) 松本市の雨温図として最も適当なものを次の①～④のうちから一つ選び、その番号をマークしなさい。



(「理科年表」より)

(5) 地形図Aに見られる「松本城」は天守が国宝指定されている全国の5つの城のうちの1つで、他は犬山城（愛知県）・彦根城（滋賀県）・姫路城（兵庫県）・松江城（島根県）です。次の表は、5つの城が位置する県の統計（2018年）をまとめたものです。表から読み取れることについて述べた文として最も適当なものをあとの①～④のうちから一つ選び、その番号をマークしなさい。

12

	販売農家数 (戸)	農業産出額 (億円)	工場数	従業者数 (千人)	製造品出荷額 (億円)
長野県	44,900	2,616	9,213	211	65,287
愛知県	30,500	3,115	28,427	872	489,829
滋賀県	15,500	641	4,529	162	81,024
兵庫県	40,600	1,544	14,314	375	166,391
島根県	16,900	612	1,951	43	12,857

（「日本国勢図会2021/22」などより）

- ① 1農家あたりの農業産出額が大きいのは長野県である。
- ② 1工場あたりの従業者数が多いのは愛知県である。
- ③ 1工場あたりの製造品出荷額が大きいのは滋賀県である。
- ④ 従業者数あたりの製造品出荷額が大きいのは兵庫県である。

3. 右の地図を見て、次の問いに答えなさい。

(1) 東北地方には、自然や文化、生活が反映された伝統行事や伝統産業が深く根付いています。地図中に示したAの県について述べた文として不適当なものを次の①～④のうちから一つ選び、その番号をマークしなさい。

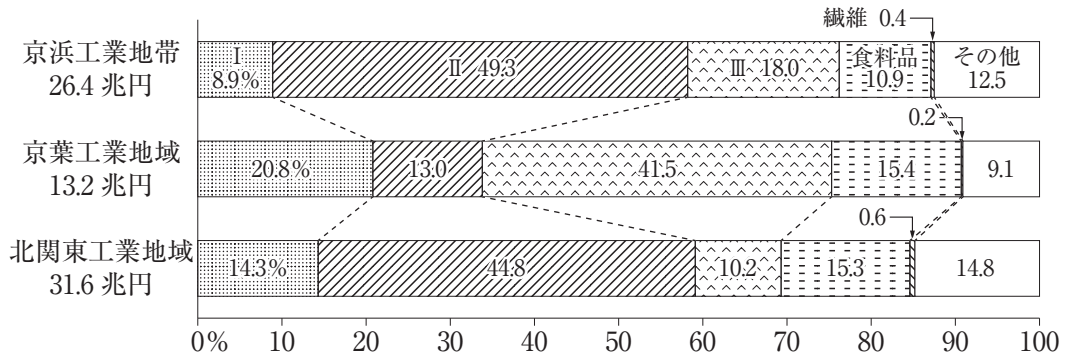
13

- ① 県内の森林資源を利用した、「天童将棋駒」は伝統的工芸品に指定されている。
- ② 正月を迎えるための年中行事として、男鹿半島では「なまはげ」が家々を訪ねる。
- ③ 提灯を米俵に見立てた「竿燈まつり」は、豊作を祈って行われる民俗行事である。
- ④ 大根をいぶした「いぶりがっこ」や米を原料とした「きりたんぼ」などの郷土料理がある。



(2) 関東地方には、京浜工業地帯、京葉工業地域、北関東工業地域があり、それぞれ特色ある生産活動を行っています。次のグラフは3つの工業地帯・地域の工業製造品出荷額及び割合（2018年）を表したもので、グラフ中のⅠ～Ⅲには、機械、化学、金属のいずれかがあてはまります。Ⅰ・Ⅱにあたるものの組み合わせとして最も適当なものをあとの①～⑥のうちから一つ選び、その番号をマークしなさい。

14



(「日本国勢図会2021/22」より)

- ① Ⅰ：機械 Ⅱ：化学 ② Ⅰ：機械 Ⅱ：金属
- ③ Ⅰ：化学 Ⅱ：機械 ④ Ⅰ：化学 Ⅱ：金属
- ⑤ Ⅰ：金属 Ⅱ：機械 ⑥ Ⅰ：金属 Ⅱ：化学

- (3) 地図中に示したBの県について述べた次の文章中の (X), (Y) にあてはまる語句の組み合わせとして最も適当なものをあとの①～④のうちから一つ選び、その番号をマークしなさい。

15

Bの県の東部は長く水不足に苦しんでいたが、戦後、(X) 半島には天竜川などから取水する大規模な (Y) 用水が整備されたことで、農業が大きく発展した。特に、電照菊を中心とした施設園芸農業は全国有数の生産額をほこっている。

- ① X：渥美 Y：豊川 ② X：渥美 Y：愛知
 ③ X：知多 Y：豊川 ④ X：知多 Y：愛知

- (4) 地図中に示したCの県について述べた文として不適当なものを次の①～④のうちから一つ選び、その番号をマークしなさい。

16

- ① 近畿地方で最も面積が広い県で、北部はなだらかな山地が連なり、過疎地域の割合が高い。
 ② 県庁所在都市は幕末に結ばれた条約をきっかけに開港し、貿易都市として発展した。
 ③ ニュータウンをつくるために山をけずった土で海を埋め立て、ポートアイランドを造成した。
 ④ 淡路島は本州とは明石海峡大橋で、四国地方とは瀬戸大橋で結ばれている。

- (5) 次の表はCの県、Dの府、Eの県のいずれかの2015年の昼間人口と夜間人口をまとめたものです。I・IIにあたる府県の組み合わせとして最も適当なものをあとの①～⑥のうちから一つ選び、その番号をマークしなさい。

17

	昼間人口 (万人)	夜間人口 (万人)
I	143	143
II	922	884
III	529	554

(「データでみる県勢2021」より)

- ① I：Cの県 II：Dの府 ② I：Cの県 II：Eの県 ③ I：Dの府 II：Cの県
 ④ I：Dの府 II：Eの県 ⑤ I：Eの県 II：Cの県 ⑥ I：Eの県 II：Dの府

- (6) 地図中に示した活動のさかんな火山である阿蘇山と桜島に関して述べた次のI、IIの文の正誤の組み合わせとして最も適当なものをあとの①～④のうちから一つ選び、その番号をマークしなさい。

18

I 熊本県に位置する阿蘇山は世界有数のカルストを有する火山である。

II 桜島はかつて島だったが、噴火による大量の溶岩によって大隅半島とつながった。

- ① I：正 II：正 ② I：正 II：誤 ③ I：誤 II：正 ④ I：誤 II：誤

4. 次の1～6のカードは代表的な絵画について述べたもので、時代順に並べられています。これについて、あとの問いに答えなさい。

<p>1 《銅鐸の絵》</p> <p>a 弥生時代に作製された銅鐸の中には、表面に絵が描かれたものもあり、絵から当時の生活を知ることができる。</p>	<p>2 《源氏物語絵巻》</p> <p>『源氏物語』を題材にした絵巻物で、現存する最古のものは平安時代末期に描かれており、b 貴族の生活が読み取れる。</p>
<p>3 《一遍上人絵伝》</p> <p>c 一遍の全国での布教活動とともに、各地の風景や d 鎌倉時代の定期市での庶民の姿なども描かれている。</p>	<p>4 《モナ・リザ》</p> <p>レオナルド・ダ・ビンチによって描かれた絵画で、ルネサンス期の代表的な作品の一つである。</p>
<p>5 《長篠合戦図屏風》</p> <p>織田信長が e 徳川家康と連合を組み、大量の f 鉄砲を効果的に使って、武田の騎馬隊と戦ったようすを描いた屏風である。</p>	<p>6 《東海道五十三次》</p> <p>化政文化を代表する浮世絵連作で東海道の宿場町と江戸、京都を描いている。後にヨーロッパの画家たちに影響を与えた。</p>

(1) カード1の下線部aに関して述べた文として最も適当なものを次の①～④のうちから一つ選び、その番号をマークしなさい。 19

- ① 新たに磨製石器が作られるようになり、石包丁は調理や農作業などには幅広く利用された。
- ② 銅鐸などの青銅器はおもに祭りに使われ、鉄器は武器や農具などの実用品として用いられた。
- ③ 三内丸山遺跡で首のない遺骨が発掘されたことなどから、争いが多発したことが読み取れる。
- ④ 『後漢書』東夷伝には、邪馬台国の卑弥呼が三十余りの小国を従えていたことが記されている。

(2) カード1とカード2の間に起きた次のⅠ～Ⅲのできごとを年代の古い順に並べたものとして最も適当なものをあとの①～⑥のうちから一つ選び、その番号をマークしなさい。 20

- Ⅰ 支配に従わない蝦夷を平定するために、坂上田村麻呂を征夷大將軍に任じた。
- Ⅱ 百濟を助けるために大軍を朝鮮半島に送ったが、唐・新羅連合軍に敗北した。
- Ⅲ 唐の高僧である鑑真に、日本に正式な仏教の教えを伝えてくれるよう求めた。

- ① Ⅰ－Ⅱ－Ⅲ ② Ⅰ－Ⅲ－Ⅱ ③ Ⅱ－Ⅰ－Ⅲ
- ④ Ⅱ－Ⅲ－Ⅰ ⑤ Ⅲ－Ⅰ－Ⅱ ⑥ Ⅲ－Ⅱ－Ⅰ

(3) カード2の下線部bに関して述べた文として不適当なものを次の①～④のうちから一つ選び、その番号をマークしなさい。 21

- ① 都の貴族は寝殿造の屋敷に住み、男性は束帯、女性は十二単などの日本風の服装を身につけた。
- ② 『源氏物語』を書いた紫式部や『枕草子』を書いた清少納言は、天皇のきさきに仕えていた。
- ③ 地方政治を司る守護には都の貴族が任じられたが、代理人を地方に派遣する者が多かった。
- ④ 財力のある貴族の中には、死後に極楽浄土に生まれ変わるために、阿弥陀堂をつくる者もいた。

- (4) カード3の下線部cに関して述べた次の文中の(X), (Y)にあてはまる語句や文の組み合わせとして最も適当なものをあとの①～④のうちから一つ選び、その番号をマークしなさい。

22

一遍は(X)を開き、各地で(Y)ことで、人々の信仰を集めた。

- ① X:浄土宗 Y:ため池や橋をつくる ② X:浄土宗 Y:念仏の札を配る
③ X:時宗 Y:ため池や橋をつくる ④ X:時宗 Y:念仏の札を配る
- (5) カード3の下線部dに関して述べた文として最も適当なものを次の①～④のうちから一つ選び、その番号をマークしなさい。

23

- ① 定期市は月に三回開かれ、日宋貿易で大量に輸入された銅銭が流通するようになった。
② 株仲間と呼ばれる同業者組合が貴族や寺社に税を納めて、営業の独占権を認められていた。
③ 河川や港では、菱垣廻船や樽廻船が物資を輸送し、物資を倉庫で保管する商人が活動していた。
④ 農村では問屋制家内工業が発達し、生産された綿織物は定期市の主要な商品となった。
- (6) カード4に関して、この絵画が描かれた16世紀初期に最も近い時期の史料として最も適当なものを次の①～④のうちから一つ選び、その番号をマークしなさい。

24

- ① 一、よその人を、この村内に身元保証人がいなければ置いてはならない。
一、森林の苗木を切った者は五百文の罰金とする。
- ② このごろ都ではやっているものは、夜討ち、強盗、天皇のにせの命令、囚人、早馬、何もないのに起きる騒動…
- ③ 一、質に入れたり、売買したりした土地のこと
…御家人ではない者や庶民が買った土地については、売買した土地の年月に関係なく、売主はこれを取り返すことができる。
- ④ 一、諸国の百姓が、刀や脇差、弓、槍、鉄砲、そのほかの武具などを持つことを固く禁止する。
- (7) カード5の下線部eの徳川家康に関して述べた文として最も適当なものを次の①～④のうちから一つ選び、その番号をマークしなさい。

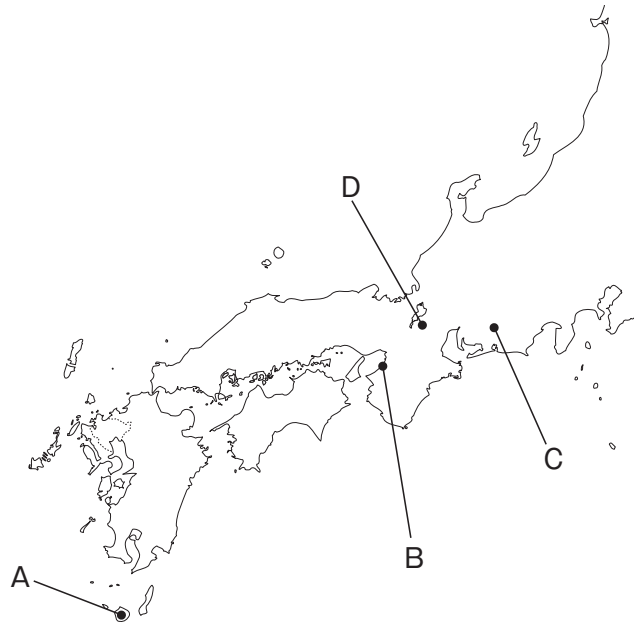
25

- ① 大名を親藩・譜代・外様に区別し、外様は監視しやすいように、江戸の周辺に配置した。
② 豊臣氏を関ヶ原の戦いで滅ぼした後、大名統制のために武家諸法度を定めた。
③ 京都に朝廷や西国の大名を監視するための機関として、六波羅探題を置いた。
④ 海外に出向いて行う貿易を奨励し、大名や豪商に海外渡航を許可する朱印状を与えた。

(8) カード5の下線部fの鉄砲に関して述べた文として不適当なものを次の①～④のうちから一つ選び、その番号をマークしなさい。

26

- ① 地図中Aに漂着したポルトガル人によって、初めて日本に鉄砲がもたらされた。
- ② 自治都市として栄えていた地図中Bでは、刀鍛冶によって鉄砲の国内生産が行われた。
- ③ 長篠の戦いは地図中Cで行われ、鉄砲の効果的な活用とともに、柵をつくるなどの騎馬対策もとられた。



- ④ 織田信長は地図中Dに天下統一の拠点となる城を築いた。この頃から、鉄砲によって築城法にも変化が見られるようになった。

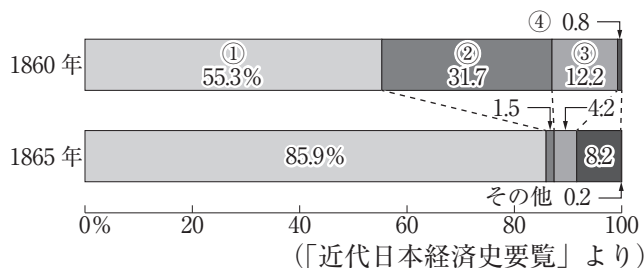
(9) カード6に関して、この作品を描いた浮世絵師として最も適当なものを次の①～④のうちから一つ選び、その番号をマークしなさい。

27

- ① 喜多川歌麿 ② 歌川広重 ③ 菱川師宣 ④ 葛飾北斎

5. 右の年表を見て、次の問いに答えなさい。

- (1) 下線部 a に関して、条約締結後、貿易が始まりました。次のグラフは1860年と1865年の日本の貿易相手国割合をあらわしたもので、グラフ中①～④はアメリカ合衆国、イギリス、フランス、オランダのいずれかがあてはまります。アメリカ合衆国にあたるものをグラフ中①～④のうちから一つ選び、その番号をマークしなさい。



年	できごと
1858	a <u>日米修好通商条約</u> が結ばれる。
1872	b <u>学制</u> が公布される。
1873	徴兵令が出される。
	↑ c ↓
1889	大日本帝国憲法が公布される。
1919	d <u>パリ講和会議</u> が開かれる。
	↑ e ↓
1925	治安維持法が制定される。
1937	f <u>日中戦争</u> が始まる。
1945	g <u>第二次世界大戦</u> が終結する。
1964	h <u>東京オリンピック</u> が開かれる。

28

- (2) 下線部 b に関して、満6歳になった男女を学校に通わせることを義務としたものの、当初、就学率は高くありませんでした。男女ともに就学率がほぼ100%になった時期として最も適当なものを次の①～④のうちから一つ選び、その番号をマークしなさい。

29

- ① 日露戦争の終結後 ② 大正デモクラシーの時期
 ③ 満州事変が起きた頃 ④ GHQの占領下の時期

- (3) 年表中に c で示した期間に起きた次の I ～ III のできごとを年代の古い順に並べたものとして最も適当なものをあとの①～⑥のうちから一つ選び、その番号をマークしなさい。

30

- I 西郷隆盛を中心として、政府に不満を持った士族が西南戦争を起こした。
 II 板垣退助らが民撰議院設立の建白書を政府に提出し、議会の開設を求めた。
 III 政府は軍隊を派遣し、琉球藩を廃止し、沖縄県を設置することを強行した。

- ① I - II - III ② I - III - II ③ II - I - III
 ④ II - III - I ⑤ III - I - II ⑥ III - II - I

- (4) 下線部 d に関して述べた次の文中の (X) ~ (Z) にあてはまる語句の組み合わせとして最も適当なものをあとの①~⑥のうちから一つ選び、その番号をマークしなさい。

31

日本が (X) のドイツ権益を引き継ぐことに抗議し、中国では学生たちを中心に (Y) が起こり、中国政府は (Z) 条約への調印を拒否した。

- ① X：遼東半島 Y：三・一独立運動 Z：ベルサイユ
② X：遼東半島 Y：五・四運動 Z：サンフランシスコ
③ X：遼東半島 Y：三・一独立運動 Z：サンフランシスコ
④ X：山東半島 Y：五・四運動 Z：ベルサイユ
⑤ X：山東半島 Y：三・一独立運動 Z：ベルサイユ
⑥ X：山東半島 Y：五・四運動 Z：サンフランシスコ
- (5) 年表中に e で示した期間にさかんになった様々な社会運動について述べた文として不適当なものを次の①~④のうちから一つ選び、その番号をマークしなさい。

32

- ① 平塚らいてうらが、参政権獲得など女性の地位向上をめざして、新婦人協会を結成した。
② 田中正造が足尾銅山鉍毒事件について天皇に直訴しようとするなどの運動を起こした。
③ 小作料の減免を求める小作争議が多発し、日本農民組合が結成された。
④ 部落差別からの解放をめざして、京都で全国水平社が結成された。
- (6) 下線部 f に関して、日中戦争の長期化にともない、戦時体制強化のために行ったことについて述べた文として不適当なものを次の①~④のうちから一つ選び、その番号をマークしなさい。

33

- ① 強力な政治体制を作るために、すべての政党を解散し、新たに大政翼賛会を結成した。
② 国民の精神のよりどころとして、「忠君愛国」を基本とする教育勅語を發布した。
③ 政府が議会の承認なしに労働力や物資を動員できる、国家総動員法を制定した。
④ 住民をたがいに監視させ、生活物資の配給を行わせるために、隣組を組織させた。
- (7) 下線部 g に関して、次の表は第二次世界大戦における日本、アメリカ合衆国、イギリス、ポーランドのいずれかの死者数を表しています。アメリカ合衆国にあたるものを表中の①~④のうちから一つ選び、その番号をマークしなさい。

34

	①	②	③	④
軍人 (人)	2,300,000	292,131	264,443	123,178
民間人 (人)	800,000	6,000	92,673	5,675,000

(「The New Encyclopædia Britannica,15th ed.,2007」などより)

- (8) 下線部 h に関して、1964年に東京オリンピックを開催した時点で実現していることとして最も適当なものを次の①~④のうちから一つ選び、その番号をマークしなさい。

35

- ① 沖縄返還 ② 国際連合への加盟
③ 韓国との国交正常化 ④ カラーテレビの全国的普及

6. 次の文章を読んで、あとの問いに答えなさい。

2019年12月に中国の武漢で新型コロナウイルスが初めて検出されました。各国が^a入国の制限を行うなどの措置を取ったものの、感染は世界中に一気に拡大していきました。日本では、2012年に制定されていた^b新型インフルエンザ等対策特別措置法を改正し、新型コロナウイルス^c感染症対策に適用することにしました。この法律に基づいて^d内閣総理大臣が緊急事態を宣言するのですが、実際に人々に対して要請や指示を行うのは該当する^e地方公共団体の^f知事です。ただし、緊急事態宣言では欧米におけるロックダウンのような強制的な都市封鎖はとられません。これは、特別措置法改正の際に、^g国民の自由と権利の制限は必要最小限とすることなどが^h委員会で付帯決議されたことによるものです。

- (1) 下線部 a に関して、我が国の出入国管理を担っている省庁として最も適当なものを次の①～④のうちから一つ選び、その番号をマークしなさい。 36

① 防衛省 ② 環境省 ③ 文部科学省 ④ 法務省

- (2) 下線部 b に関して、法律の改正の手続きについて述べた文として不適当なものを次の①～④のうちから一つ選び、その番号をマークしなさい。 37

① 一定の人数以上の賛成があれば、国会議員は改正案を国会に提出することができる。
② 改正案の審議は衆議院に先議権がある。
③ 衆議院が可決した改正案を参議院が否決したとき、衆議院が出席議員の3分の2以上の賛成で再可決すれば法律となる。
④ 可決した改正案は、内閣の助言と承認によって、天皇が国民の名で公布する。

- (3) 下線部 c に関して、感染症対策は社会保障制度の4つの柱のうちの公衆衛生にあたり、保健所がその業務にあたります。感染症対策以外の保健所の仕事として不適当なものを次の①～④のうちから一つ選び、その番号をマークしなさい。 38

① 食中毒の原因調査 ② 河川や井戸の水質調査
③ 乳幼児の健康診査 ④ 生活困窮者への生活保護給付

- (4) 下線部 d に関して述べた文として最も適当なものを次の①～④のうちから一つ選び、その番号をマークしなさい。 39

① 内閣総理大臣は衆議院議員でなければならない。
② 内閣総理大臣が任命する国务大臣は国会議員でなければならない。
③ 内閣総理大臣が議長として開く閣議の意思決定は全会一致でなければならない。
④ 内閣総理大臣は不信任決議を受けると、30日以内に総辞職するか衆議院を解散するかを決定しなければならない。

(5) 下線部 e に関して述べた文として最も適当なものを次の①～④のうちから一つ選び、その番号をマークしなさい。

40

- ① 都道府県、市町村はそれぞれ、法律の範囲内で政令を定めることができる。
- ② 警察は都道府県、消防は市町村の仕事である。
- ③ 軽微な問題を扱う簡易裁判所は、都道府県の管轄下に置かれている。
- ④ 政令指定都市は都道府県と全く同等の業務や権限を担っている。

(6) 下線部 f に関して述べた次の文章中の (X) ～ (Z) にあてはまる語句の組み合わせとして最も適当なものをあとの①～⑥のうちから一つ選び、その番号をマークしなさい。

41

住民が有権者の (X) の署名を (Y) に提出し、住民投票で (Z) の同意があれば、知事を解職することができる。これをリコールという。

- ① X : 50分の1以上 Y : 選挙管理委員会 Z : 過半数
- ② X : 50分の1以上 Y : 監査委員 Z : 3分の2以上
- ③ X : 50分の1以上 Y : 監査委員 Z : 過半数
- ④ X : 3分の1以上 Y : 選挙管理委員会 Z : 3分の2以上
- ⑤ X : 3分の1以上 Y : 選挙管理委員会 Z : 過半数
- ⑥ X : 3分の1以上 Y : 監査委員 Z : 3分の2以上

(7) 下線部 g に関して述べた文として不適当なものを次の①～④のうちから一つ選び、その番号をマークしなさい。

42

- ① 自由権のうち、経済活動の自由は身体的自由や精神の自由より制限を受けることが多い。
- ② 女性が子育てや介護を担いやすくするために、近年、男女共同参画社会基本法が制定された。
- ③ すべての子どもが学校教育を受けられるように、義務教育は無償となっている。
- ④ 自分の自由や権利が侵害された場合、裁判所に訴え、救済を求める権利が保障されている。

(8) 下線部 h に関して述べた次の I ・ II の文の正誤の組み合わせとして最も適当なものをあとの①～④のうちから一つ選び、その番号をマークしなさい。

43

I 法律案や予算案は、本会議にかける前に、議案内容に応じた委員会で審議される。

II 委員会は審議の参考にするために、関係者から意見を聞く公聴会を必要に応じて開く。

- ① I : 正 II : 正 ② I : 正 II : 誤 ③ I : 誤 II : 正 ④ I : 誤 II : 誤

7. 次の文章を読んで、あとの問いに答えなさい。

近年、日本国憲法の改正に関する論議が起きています。2022年は憲法施行から75年目にあたりませんが、これまで日本国憲法が改正されたことは一度もありません。これはa改正手続きが慎重であることに起因します。憲法の三原則は国民主権・b平和主義・基本的人権の尊重です。主権とは、国の意思や政治の在り方を最終的に決定する権利で、主権者として国民には基本的人権の一つである参政権を正しく行使することが求められています。参政権の代表的なものとしてc選挙権があります。2021年10月には、d衆議院議員総選挙が実施され、選挙後に召集されたe国会で、内閣総理大臣が指名されました。近年、f投票率の低下が問題となっています。しかし、選挙結果は内閣総理大臣の指名や組閣に結びつき、憲法改正問題を含め、その後の政治に大きく影響を及ぼします。私たちは日ごろからもっとg政治に関心を持ち、自分の判断で一票の権利を行使することが大切なのではないでしょうか。

(1) 下線部aに関して、改正手続きの一つである国会の憲法改正の発議の要件として最も適当なものを次の①～④のうちから一つ選び、その番号をマークしなさい。 44

- ① 両議院の出席議員の3分の2以上の賛成 ② 両議院の出席議員の4分の3以上の賛成
 ③ 両議院の総議員の過半数の賛成 ④ 両議院の総議員の3分の2以上の賛成

(2) 下線部bに関して、憲法に記されている内容として不適当なものを次の①～④のうちから一つ選び、その番号をマークしなさい。 45

- ① 戦争を放棄し、国際平和を誠実に希求する。
 ② 核兵器を持たない、つくらない、持ち込ませない。
 ③ 陸海空軍やその他の戦力を持たない。
 ④ 国の交戦権を認めない。

(3) 下線部cに関して、選挙権獲得の要件として最も適当なものを次の①～④のうちから一つ選び、その番号をマークしなさい。 46

- ① 満18歳以上のすべての日本国民 ② 満18歳以上の日本に住む国民
 ③ 満20歳以上のすべての日本国民 ④ 満20歳以上の日本に住む国民

(4) 下線部dに関して、次の表は2021年に実施された衆議院議員総選挙の比例代表区四国ブロックの得票結果上位5党の得票数です。四国ブロックの定数は6議席でした。最も多く票を集めたA党に割り当てられた議席数として最も適当なものをあとの①～④のうちから一つ選び、その番号をマークしなさい。 47

	A党	B党	C党	D党	E党
得票数	664,805	291,871	233,407	173,826	122,082

(総務省ホームページより)

- ① 5議席 ② 4議席 ③ 3議席 ④ 2議席

- (5) 下線部 e に関して述べた次の文の (I), (II) にあてはまる語句の組み合わせとして最も適切なものをあとの①～④のうちから一つ選び、その番号をマークしなさい。

48

衆議院解散による総選挙後に召集される国会は (I) で、召集後に内閣総理大臣の指名選挙が行われる。一方、衆議院の解散中に緊急の必要があり、内閣の求めに応じて参議院で開かれる国会は (II) である。

- ① I : 臨時会 II : 特別会 ② I : 特別会 II : 緊急集会
③ I : 緊急集会 II : 臨時会 ④ I : 特別会 II : 臨時会
- (6) 下線部 f に関して、投票率を高める対策について述べた次の I・II の文の正誤の組み合わせとして最も適切なものをあとの①～④のうちから一つ選び、その番号をマークしなさい。

49

I 投票所に行くことが困難な人もいたので、インターネットから投票することができるようにした。
II 投票日に用事があって都合の悪い人のために、期日前にも投票ができるようにした。

- ① I : 正 II : 正 ② I : 正 II : 誤 ③ I : 誤 II : 正 ④ I : 誤 II : 誤
- (7) 下線部 g に関して、世の中にあふれるさまざまな情報をうのみにせず、多角的な視点で判断する力を表す語句として最も適切なものを次の①～④のうちから一つ選び、その番号をマークしなさい。

50

- ① メディアリテラシー ② インフォームド・コンセント
③ クラウドファンディング ④ ノーマライゼーション

