

# 2023年度 入学試験 学特入試 I

# 社 会

※問題は[1]ページから[16]ページまであります。

※マークシートに、受験番号・氏名・性別・科目を正しく記入してください。

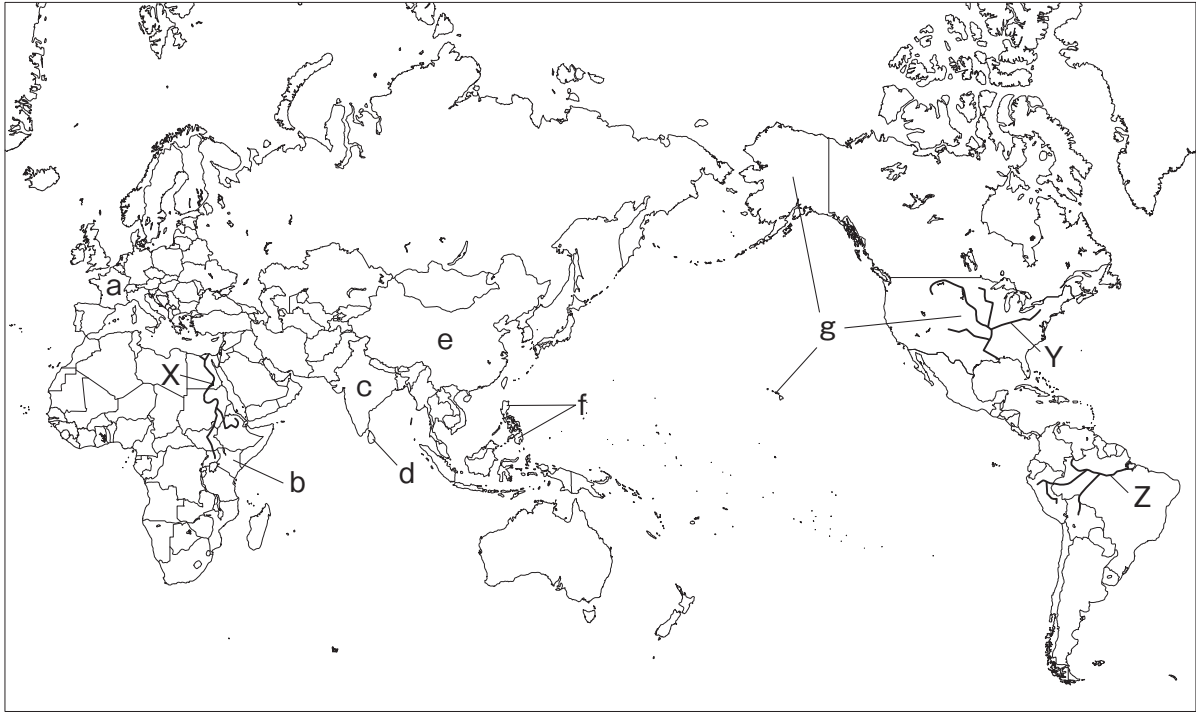
※解答は、すべてマークシートに記入してください。

※書き誤りをしたときは、きれいに消してから、新しい解答を書いてください。

学 特 入 試 I	受 験 番 号		氏  名	
-----------------------	------------------	--	------------	--

高崎健康福祉大学高崎高等学校

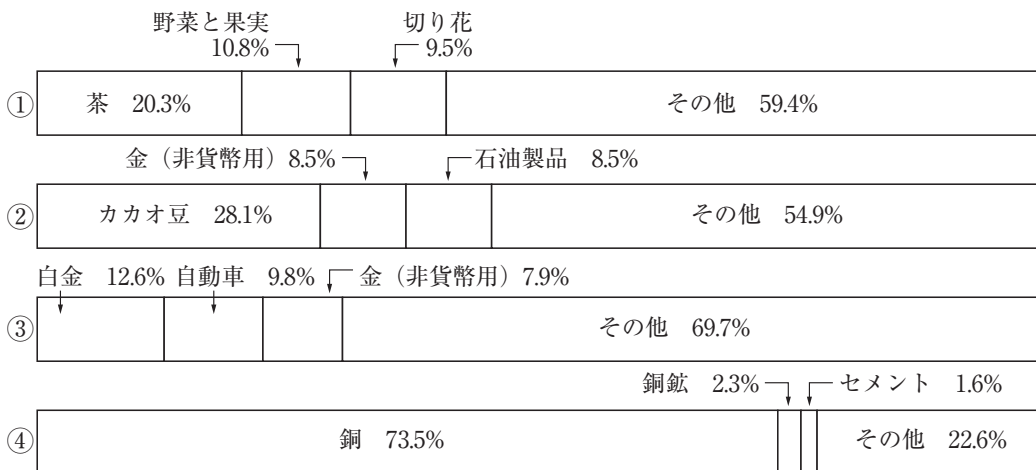
1. 次の地図を見て、あとの問いに答えなさい。



(1) 地図中に a で示した国の農業に関して述べた文として最も適当なものを次の①～④のうちから一つ選び、その番号をマークしなさい。 1

- ① 北部では主に地中海式農業が行われ、南部では主に混合農業が行われている。
- ② 小麦の栽培が盛んで、2017年における食料自給率は100%を超えている。
- ③ パンパとよばれる草原が広がっており、牧畜や小麦の栽培が盛んである。
- ④ 寒流の北大西洋海流の影響で、北部では主に酪農が盛んである。

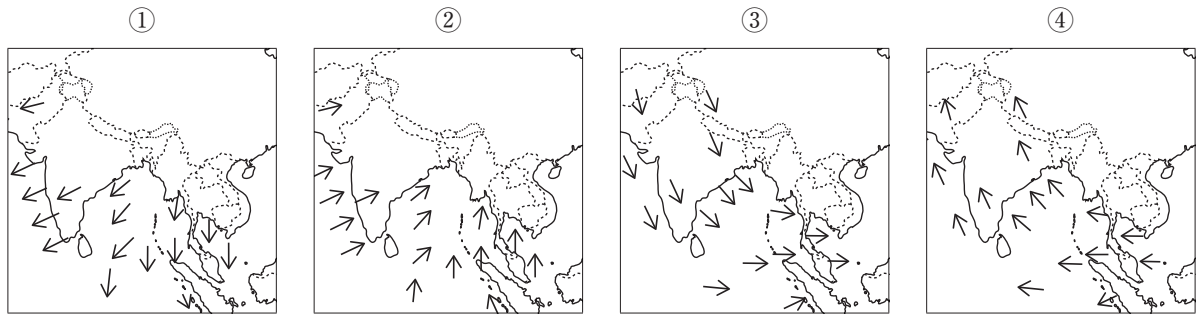
(2) 次の資料は、地図中に b で示した国、ザンビア、コートジボワール、南アフリカ共和国の輸出品上位3品目とその割合を示したもの（ザンビアは2019年、他は2020年）です。bで示した国にあたるものとして最も適当なものを次の①～④のうちから一つ選び、その番号をマークしなさい。 2



(データブック オブ・ザ・ワールド2022年版より)

- (3) 地図中にcで示した国に関して、この地域の夏の季節風の風向きを示したものとして、最も適当なものを次の①～④のうちから一つ選び、その番号をマークしなさい。

3



(CRU資料などより)

- (4) 地図中にcで示した国の東部やdで示した国で栽培が盛んな農産物を次の①～④のうちから一つ選び、その番号をマークしなさい。

4

- ① オリーブ      ② 小麦      ③ 綿花      ④ 茶

- (5) 地図中のX～Zはミシシッピ川、アマゾン川、ナイル川のいずれかの河川を示している。X～Zと河川名との組み合わせとして、最も適当なものを次の①～⑥のうちから一つ選び、その番号をマークしなさい。

5

- |            |          |          |
|------------|----------|----------|
| ① X ミシシッピ川 | Y アマゾン川  | Z ナイル川   |
| ② X ミシシッピ川 | Y ナイル川   | Z アマゾン川  |
| ③ X アマゾン川  | Y ミシシッピ川 | Z ナイル川   |
| ④ X アマゾン川  | Y ナイル川   | Z ミシシッピ川 |
| ⑤ X ナイル川   | Y ミシシッピ川 | Z アマゾン川  |
| ⑥ X ナイル川   | Y アマゾン川  | Z ミシシッピ川 |

- (6) 地図中にeで示した国に関して述べた文として不適当なものを次の①～④のうちから一つ選び、その番号をマークしなさい。

6

- ① 1980年代以降、沿岸部のシェンチェンやアモイなどで外国企業を受け入れ、工業化が進んだ。  
 ② 工業の発展によって、大気汚染や水質汚濁などの深刻な環境問題が起こっている。  
 ③ 2020年現在の人口は14億人を超過しており、また、人口の約9割は漢族（漢民族）である。  
 ④ 黄河周辺では主に稲作（水稲）が、長江周辺では主に畑作が盛んである。

- (7) 地図中にfで示した国について述べた次のI、IIの文の正誤の組み合わせとして最も適当なものをあとの①～④のうちから一つ選び、その番号をマークしなさい。

7

- I この国で主に信仰されている宗教では、豚肉を食べない。  
 II 数学の教育水準の高さや英語を話すことができる技術者が多いことから、外国企業が多く進出し、特に南部のバンガロールではIT（ICT）関連産業が盛んである。

- ① I：正 II：正    ② I：正 II：誤    ③ I：誤 II：正    ④ I：誤 II：誤

(8) 地図中に g で示した国の、主に北緯37度より南に位置する温暖な地域を次の①～④のうちから一つ選び、その番号をマークしなさい。

8

- ① 太平洋ベルト      ② サンベルト      ③ 経済特区      ④ シリコンバレー

(9) 次の表は、地図中に e で示した国、g で示した国、ロシア、カナダ、ブラジルの2019年の国土面積、農林水産業就業人口、農林水産業の国内総生産、穀類自給率、農地面積を表したものです。表から読み取れることについて述べた文として最も適当なものをあとの①～④のうちから一つ選び、その番号をマークしなさい。

9

	国土面積 (千 km <sup>2</sup> )	農林水産業 就業人口 (千人)	農林水産業の 国内総生産 (百万ドル)	穀類自給率 (%)	農地面積 (千 ha)
ロシア	17,098	4,168	58,986	151	215,494
e	9,600	200,658	1,065,038	99	527,714
g	9,834	2,181	162,600	116	405,811
カナダ	9,985	285	31,669	186	58,157
ブラジル	8,516	8,567	79,116	132	236,879

(「世界国勢図会2020/21」, 「世界国勢図会2021/22」, 「世界国勢図会2022/23」より)

- ① カナダとブラジルの国土面積に占める農地面積の割合を比較すると、ブラジルの方が小さい。
- ② e で示した国の農林水産業就業人口は、他の4か国の農林水産業就業人口の合計よりも少ない。
- ③ g で示した国とロシアについて、農林水産業就業人口1人当たりの農林水産業の国内総生産を比較するとロシアの方が少ない。
- ④ 農地面積が最も大きいロシアは穀類自給率も高く、農地面積が最も小さいカナダは穀類自給率ももっとも高い。

2. 次の地形図A, 地形図Bは, いずれも縮尺が2万5千分の1の地形図です。これらを見て, あとの問いに答えなさい。

地形図A



(1) 地形図Aから読み取れることについて述べた文として不適当なものを次の①～④のうちから一つ選び, その番号をマークしなさい。 10

- ① 「福島トンネル」は地形図上で約2cmであるため, 実際の距離は約500mである。
- ② 「木曾福島駅」の西方には, 裁判所や郵便局がある。
- ③ 木曾川は, 南西から北東に向かって流れている。
- ④ 最も標高の高い場所は, 1,200mを超えている。

(2) 地形図Aから読み取り, 考えることができる内容について述べた次の文章中の ( X ), ( Y ) にあてはまる語句の組み合わせとして最も適当なものをあとの①～④のうちから一つ選び, その番号をマークしなさい。 11

この地域は, 江戸時代には多くの旅人が歩いていた五街道の一つである ( X ) の宿場町として栄えた。この宿場町には, 江戸の防衛のための施設があったことが地形図中の ( Y ) の史跡からもわかる。

- ① X : 甲州道中 Y : 馬借
- ② X : 中山道 Y : 馬借
- ③ X : 中山道 Y : 関所
- ④ X : 甲州道中 Y : 関所

(3) 地形図Aには「木曾義仲の墓」が見られるが、源氏に関係することについて述べた次のI、IIの文の正誤の組み合わせとして最も適当なものをあとの①～④のうちから一つ選び、その番号をマークしなさい。

12

I 平氏に対して不満をもった武士を中心に、伊豆の源頼朝や木曾の源義仲が挙兵した。

II 壇ノ浦の戦いで、源義経が平氏を滅亡させた。

- ① I：正 II：正    ② I：正 II：誤    ③ I：誤 II：正    ④ I：誤 II：誤

地形図B



(4) 地形図Bから読み取り、考えることができる内容について述べた次のI、IIの文の正誤の組み合わせとして最も適当なものをあとの①～④のうちから一つ選び、その番号をマークしなさい。

13

I 「屯田公園」などの地名から、この一帯は明治時代に北海道の開拓や防備を担った人々によって形成された集落であることがわかる。

II 「屯田公園」の南にある屯田七条付近には、図書館や郵便局、神社や小・中学校があることがわかる。

- ① I：正 II：正    ② I：正 II：誤    ③ I：誤 II：正    ④ I：誤 II：誤

3. 右の地図を見て、次の問いに答えなさい。ただし、地図中のA～Hはそれぞれ都道府県を示しているものとします。

- (1) 右の日本地図について述べた次の文章中の( P ), ( Q )にあてはまる語句の組み合わせとして最も適当なものをあとの①～④のうちから一つ選び、その番号をマークしなさい。

14

日本の国土面積は約38万km<sup>2</sup>であり、海岸から200海里以内の水域を排他的経済水域という。日本の場合、排他的経済水域は国土面積の約( P )倍の広さがある。また、陸地の周辺にある水深( Q )mまでの、ゆるやかに傾斜する海底は大陸棚とよばれ、好漁場となっている。

- ① P : 6 Q : 200      ② P : 6 Q : 100  
 ③ P : 12 Q : 200      ④ P : 12 Q : 100

- (2) 地図中にあるXの帯状の工業地域について述べた文として不適当なものを次の①～④のうちから一つ選び、その番号をマークしなさい。

15

- ① 工業原料の多くを輸入にたよることから、臨海部に鉄鋼や石油化学などの工場が立ち並んだ。  
 ② 阪神工業地帯では、特に東大阪市などで中小企業の工場が集まっている。  
 ③ 瀬戸内工業地域では、岡山県倉敷市や山口県周南市などで石油化学コンビナートがつくられた。  
 ④ 東海工業地域では、三重県四日市市などで石油化学コンビナートがつくられた。

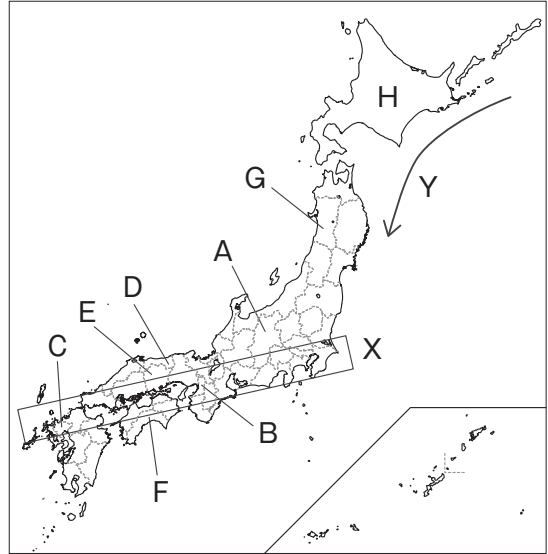
- (3) 地図中に示したAの隣接県の説明について述べた次のI, IIの文の正誤の組み合わせとして最も適当なものをあとの①～④のうちから一つ選び、その番号をマークしなさい。

16

I 白川郷の合掌造りがあり、益子では陶磁器の製造が盛んである。

II 都道府県庁所在地が47都道府県中唯一のひらがな表記であり、秩父ではセメント工業が有名である。

- ① I : 正 II : 正      ② I : 正 II : 誤      ③ I : 誤 II : 正      ④ I : 誤 II : 誤



(4) 地図中に示したBについて述べた次の文章中の ( X ), ( Y ) にあてはまる語句の組み合わせとして最も適当なものをあとの①～④のうちから一つ選び、その番号をマークしなさい。

17

Bでは、臨海部を中心に工業が発展してきたが、工業用水のくみ上げすぎによって、( X )などの公害が深刻になった。一方、東部の地域の工場の多くは大企業の下請けである中小企業であるが、独自の技術で製品開発を行っている企業もある。また、中心部の過密による住宅地の不足を解消するため、郊外の千里や泉北などでは、( Y )の建設を進めてきた。

- ① X：土壤汚染 Y：ニュータウン      ② X：地盤沈下 Y：ニュータウン  
 ③ X：土壤汚染 Y：ベッドタウン      ④ X：地盤沈下 Y：ベッドタウン

(5) 地図中に示したCについて述べた文として不適当なものを次の①～④のうちから一つ選び、その番号をマークしなさい。

18

- ① 県西部では、石見銀山が世界遺産に登録され、近年では海外からの観光客も多く集まっている。  
 ② 日本最大の干潟をもつ有明海では、のりの生産が盛んである。  
 ③ 二毛作も古くから行われてきたが、近年はイチゴの「さがほのか」などの地域ブランド商品に力を入れている。  
 ④ 江戸時代から続く有田焼などの伝統産業は、現在も国内外から評価が高い。

(6) 次のI～IIIは地図中に示したD・E・Fの県庁所在地のいずれかの月別の平均気温と降水量をまとめたものです。I、IIの組み合わせとして最も適当なものをあとの①～⑥のうちから一つ選び、その番号をマークしなさい。

19

I (単位 気温：℃ 降水量：mm)

	1月	2月	3月	4月	5月	6月	7月	8月	9月	10月	11月	12月
気温	4.6	5.2	8.7	14.1	19.1	22.7	27.0	28.1	23.9	18.0	11.6	6.6
降水量	36.2	45.4	82.5	90.0	112.6	169.3	177.4	97.2	142.2	95.4	53.3	41.5

II (単位 気温：℃ 降水量：mm)

	1月	2月	3月	4月	5月	6月	7月	8月	9月	10月	11月	12月
気温	6.7	7.8	11.2	15.8	20.0	23.1	27.0	27.9	25.0	19.9	14.2	8.8
降水量	59.1	107.8	174.8	225.3	280.4	359.5	357.3	284.1	398.1	207.5	129.6	83.1

III (単位 気温：℃ 降水量：mm)

	1月	2月	3月	4月	5月	6月	7月	8月	9月	10月	11月	12月
気温	4.2	4.7	7.9	13.2	18.1	22.0	26.2	27.3	22.9	17.2	11.9	6.8
降水量	201.2	154.0	144.3	102.2	123.0	146.0	188.6	128.6	225.4	153.6	145.9	218.4

(「日本国勢図会2022/23」より)

- ① I：F II：D      ② I：F II：E      ③ I：D II：F  
 ④ I：D II：E      ⑤ I：E II：F      ⑥ I：E II：D



(7) 地図中に示したGで行われ、東北三大祭りの一つで重要無形民俗文化財にも指定されている、豊作を祈る真夏の祭りとして最も適当なものを次の①～④のうちから一つ選び、その番号をマークしなさい。

20

- ① 七夕まつり            ② 竿燈まつり            ③ ねぶた祭            ④ 花笠まつり

(8) 地図中に示したHの東部の夏の気温に影響をあたえる海流Yとして最も適当なものを次の①～④のうちから一つ選び、その番号をマークしなさい。

21

- ① 黒潮                    ② 親潮                    ③ リマン海流            ④ 対馬海流

(9) 次の沖縄県、東京都、神奈川県、大阪府、全国についての表から読み取ることができることとして不適当なものをあとの①～④のうちから一つ選び、その番号をマークしなさい。

22

	面積 (km <sup>2</sup> ) (2020年)	人口 (万人) (2020年)	※1 人口増減率 (%) (2015～20年)	※2 昼夜間人口比率 (2015年)
沖縄県	2,283	146.7	2.43	100.0
東京都	2,194	1404.8	4.07	117.8
神奈川県	2,416	923.7	1.25	91.2
大阪府	1,905	883.8	0.03	104.4
全国	377,976	12614.6	-0.68	100.0

※1 2015～20年の5年間の人口の増減で比較した割合

※2 昼夜間人口比率とは、夜間人口100人あたりの昼間人口のこと

(「日本国勢図会2022/23」, 「データでみる県勢2022」より)

- ① 4つの都府県のうち、人口密度(1km<sup>2</sup>あたりの人数)が最も大きいのは東京都で、最も小さいのは沖縄県である。
- ② 昼夜間人口比率が100を下回る神奈川県は、昼間は他の都道府県から人口が流入しているといえる。
- ③ 4つの都府県の中では、どの都道府県も2015年よりも2020年の方が人口が増加していると考えられる。
- ④ 4つの都府県の人口の合計が全国の人口に占める割合は、4分の1を超えている。

4. 次の1～6のカードは代表的な国宝について述べたもので、時代順に並べられています。これについて、あとの問いに答えなさい。

<p>1 《石上神宮七支刀》 石上神宮所蔵の神宝で、<u>a</u>古墳時代の国宝として認定された。</p>	<p>2 《法隆寺金堂》 <u>b</u>聖徳太子により建立された日本最古の木造建築の寺で、その金堂が<u>c</u>飛鳥時代の国宝として認定された。</p>
<p>3 《唐招提寺金堂》 唐より招かれた僧である鑑真ゆかりの寺にある金堂である。<u>d</u>奈良時代の国宝として認定された。</p>	<p>4 《東大寺南大門》 この門には運慶・快慶により作られた<u>e</u>金剛力士像が安置されており、<u>f</u>鎌倉時代の国宝として認定された。</p>
<p>5 《妙喜庵待庵》 千利休の作とされ、一切のむだを省いたつくりになっている。<u>g</u>安土桃山時代の国宝として認定された。</p>	<p>6 《風神雷神図屏風》 俵屋宗達によって作られた、大和絵の伝統をいかした華麗な装飾画である。<u>h</u>江戸時代の国宝として認定された。</p>

(1) カード1の下線部aに関して述べた次の文中の( X )～( Z )にあてはまる語句の組み合わせとして最も適当なものをあとの①～⑥のうちから一つ選び、その番号をマークしなさい。

3世紀末になると各地で古墳が出現し、中でも現在の大阪府では、全長が約486mもある世界最大級の前方後円墳である( X )が5世紀につくられた。古墳からは銅鏡やまが玉、武器や武具のほか、( Y )が見つかっている。このほか、この時期に中国や朝鮮半島から日本列島に移住してきた人々により、6世紀には( Z )が日本に伝わった。

- |           |      |       |
|-----------|------|-------|
| ① X：稲荷山古墳 | Y：埴輪 | Z：稲作  |
| ② X：大仙古墳  | Y：埴輪 | Z：稲作  |
| ③ X：大仙古墳  | Y：埴輪 | Z：仏教  |
| ④ X：稲荷山古墳 | Y：土偶 | Z：仏教  |
| ⑤ X：稲荷山古墳 | Y：土偶 | Z：青銅器 |
| ⑥ X：大仙古墳  | Y：土偶 | Z：青銅器 |

(2) カード2の下線部bに関して述べた文として最も適当なものを次の①～④のうちから一つ選び、その番号をマークしなさい。

24

- ① 当時の中国の進んだ文化を取り入れようと、小野妹子を遣唐使としてつかわした。
- ② 中臣鎌足らと協力して新しい支配の仕組みを作る改革を始めた。
- ③ 十七条の憲法を定め、役人の心構えを示した。
- ④ 冠位十二階の制度を定め、家柄のある豪族を役人に用いた。

(3) カード2の下線部cに関して、天智天皇の死後にあとつぎをめぐる争いが起きました。この争いとして最も適当なものを次の①～④のうちから一つ選び、その番号をマークしなさい。

25

- ① 大塩（平八郎）の乱
- ② 承久の乱
- ③ 白村江の戦い
- ④ 壬申の乱

(4) カード3の下線部dに関して、この時代の律令国家のしくみとして不適当なものを次の①～④のうちから一つ選び、その番号をマークしなさい。

26

- ① 大蔵省
- ② 環境省
- ③ 刑部省
- ④ 式部省

(5) カード3の下線部dに関して述べた文として不適当なものを次の①～④のうちから一つ選び、その番号をマークしなさい。

27

- ① 戸籍に登録された6歳以上のすべての男子にのみ口分田が与えられ、死後、国に返却することになっていた。
- ② インドや西アジアからシルクロードを通して唐にもたらされ、遣唐使によって持ち帰ったとされる品が東大寺正倉院におさめられている。
- ③ 農民にとってさまざまな税や兵役の負担が重く、中にはよその土地に逃げる者もいた。
- ④ 産物や地名の由来、伝承などを国ごとにまとめた『風土記』がつくられた。

(6) カード4の下線部eに関して、この彫刻がつけられた13世紀のできごととして最も適当なものを次の①～④のうちから一つ選び、その番号をマークしなさい。

28

- ① マルコ・ポーロが元に到着した。
- ② ルターがドイツで免罪符の販売を批判した。
- ③ マゼラン一行が世界一周に成功した。
- ④ 十字軍が初めてエルサレムに遠征を行った。

(7) カード4の下線部fに関して、この時代に源氏の第3代将軍が殺害されたことから、幕府を倒そうとして兵をあげた人物として最も適当なものを次の①～④のうちから一つ選び、その番号をマークしなさい。

29

- ① 白河天皇
- ② 後白河上皇
- ③ 後鳥羽上皇
- ④ 後醍醐天皇

(8) カード4とカード5の時代の間起きた、次のⅠ～Ⅲのできごとを年代の古い順に並べたものとして最も適当なものをあとの①～⑥のうちから一つ選び、その番号をマークしなさい。

30

Ⅰ 南北朝が統一された。

Ⅱ 加賀の一向一揆が起こった。

Ⅲ 応仁の乱が起こった。

① Ⅰ－Ⅱ－Ⅲ      ② Ⅰ－Ⅲ－Ⅱ      ③ Ⅱ－Ⅰ－Ⅲ

④ Ⅱ－Ⅲ－Ⅰ      ⑤ Ⅲ－Ⅰ－Ⅱ      ⑥ Ⅲ－Ⅱ－Ⅰ

(9) カード5の下線部gに関して述べた次のⅠ、Ⅱの文の正誤の組み合わせとして最も適当なものをあとの①～④のうちから一つ選び、その番号をマークしなさい。

31

Ⅰ 織田信長は明智光秀に攻められ、本能寺で自害した。

Ⅱ 豊臣秀吉はこれまで統一されていたものさしやますを地域ごとに分け、太閤検地を行った。

① Ⅰ：正 Ⅱ：正      ② Ⅰ：正 Ⅱ：誤      ③ Ⅰ：誤 Ⅱ：正      ④ Ⅰ：誤 Ⅱ：誤

(10) カード6の下線部hに関して、徳川家康が大名や商人に貿易の許可状を与えた結果、日本人が東南アジア各地にわたり、安南やシャムでは日本町もできました。この貿易を次の①～④のうちから一つ選び、その番号をマークしなさい。

32

① 南蛮貿易      ② 日明貿易      ③ 日宋貿易      ④ 朱印船貿易

(11) カード6の下線部hに関して、この時代の社会について述べた文として最も適当なものを次の①～④のうちから一つ選び、その番号をマークしなさい。

33

① 農村では百姓一揆が起き、都会では打ちこわしが起きるようになった。

② 農村では自給自足の生活から中国の銅銭を用いた貨幣経済へと移行していった。

③ 農村では徳政を求めて土一揆が頻繁に起きるようになった。

④ 農村では惣とよばれる自治組織がつくられ、そこでは自治を行うための寄合がひらかれた。

5. 右の年表を見て、次の問いに答えなさい。

(1) 下線部 a に関して、この条約により開港した港の組み合わせとして最も適当なものを①～⑥のうちから一つ選び、その番号をマークしなさい。 34

- ① 函館と長崎
- ② 函館と下田
- ③ 函館と神戸
- ④ 神戸と下田
- ⑤ 下田と長崎
- ⑥ 長崎と神戸

年	できごと
1854	a 日米和親条約が結ばれる
1871	b 岩倉使節団が派遣される
1889	c 大日本帝国憲法が公布される
	↑ d
1919	パリ講和会議が開かれる
	↑ e
1937	盧溝橋事件が起こる
1939	f 第二次世界大戦が始まる
1947	g 日本国憲法が施行される
1972	h 沖縄が本土に復帰する

(2) 下線部 b に関して、岩倉使節団とともにフランスに留学し、帰国後に『社会契約論』を翻訳し、ルソーの思想を紹介した人物として最も適当なものを次の①～④のうちから一つ選び、その番号をマークしなさい。

35

- ① 長岡半太郎      ② 中江兆民      ③ 福沢諭吉      ④ 大久保利通

(3) 下線部 c に関して、大日本帝国憲法について述べた次の I、II の文の正誤の組み合わせとして最も適当なものをあとの①～④のうちから一つ選び、その番号をマークしなさい。

36

- I 憲法は明治天皇から首相の伊藤博文に手わたされた。
- II 国民は臣民とよばれ、臣民の権利は法律の範囲内で認められていた。

- ① I : 正 II : 正      ② I : 正 II : 誤      ③ I : 誤 II : 正      ④ I : 誤 II : 誤

(4) 年表中 d に関して、この期間に起こったできごととして不適当なものを次の①～④のうちから一つ選び、その番号をマークしなさい。

37

- ① 原敬を首相とする本格的な政党内閣が成立した。
- ② 藩閥の桂太郎が首相になったことから、(第一次)護憲運動が起きた。
- ③ レーニン主導のもとロシア革命が起こった。
- ④ 加藤高明内閣のときに治安維持法が制定された。

(5) 年表中 e に関して、この期間に起こったできごととして、不適当なものを次の①～④のうちから一つ選び、その番号をマークしなさい。

38

- ① 関東大震災      ② 五・一五事件      ③ 国際連盟脱退      ④ 日独伊三国同盟

(6) 下線部 f に関して、この戦争の開戦から終戦までの期間に起きた、次の I～III のできごとを年代の古い順に並べたものとして最も適当なものをあとの①～⑥のうちから一つ選び、その番号をマークしなさい。

39

I ドイツが降伏した。

II イタリアが降伏した。

III 日本軍がミッドウェー海戦で敗れた。

① I - II - III      ② I - III - II      ③ II - I - III

④ II - III - I      ⑤ III - I - II      ⑥ III - II - I

(7) 下線部 g に関して、平和主義について記載されている日本国憲法の条文として最も適当なものを次の①～④のうちから一つ選び、その番号をマークしなさい。

40

① 第1条      ② 第9条      ③ 第14条      ④ 第25条

(8) 下線部 h の沖縄が本土に復帰した際の首相として最も適当なものを次の①～④のうちから一つ選び、その番号をマークしなさい。

41

① 佐藤栄作      ② 福田赳夫      ③ 田中角栄      ④ 池田勇人

6. 次の文章を読んで、あとの問いに答えなさい。

現代の日本社会では、a 将来にわたって成熟した社会を目指すことが求められていますが、身の回りではさまざまな問題を抱えています。例えば、b 少子高齢化が進み、人口の減少が進んでいます。このほか、c 女性の社会進出をめぐる問題に対しては、さまざまな制度や法律を整備してきていますが、十分とはいえません。

人間社会の中では多様な意見があり、対立も生まれることから、これを解消していく上でいくつもの方法を考えてきました。その一つの例が議会です。d イギリスでは、国王の権力を制限し、議会の役割を強める文書や法律が制定されてきました。日本の国会でも e 衆議院と参議院の二院制のもと、慎重な議論が行われています。また、f 裁判所は、争いや犯罪を裁くとともに、人類が長年守ってきた g 人権を擁護することも大きな役割であり、そのために h 裁判所は国会や内閣から独立して国民の権利を守っています。国民の生活はほかにも、身近な地方公共団体に支えられており、小学校や中学校などの学校教育も i 地方公共団体のさまざまな支援を受けています。

- (1) 下線部 a に関して、このような社会を実現するために必要とされる内容として不適当なものを次の

①～④のうちから一つ選び、その番号をマークしなさい。

42

- ① 公害などの環境問題への対応を行う。
- ② すべてのものごとは多数決で決定する。
- ③ 公共の交通機関や建物でバリアフリー化を進める。
- ④ 技術や情報の中身を理解して、情報リテラシーを身につける。

- (2) 下線部 b に関して、日本の少子高齢社会の現状について述べた文として最も適当なものを次の①～

④のうちから一つ選び、その番号をマークしなさい。

43

- ① 1人の女性が生涯に出産する子どもの平均人数である合計特殊出生率は、2017年では1.5を下回っている。
- ② 高齢者の人口は増加しているが、社会全体での高齢者の暮らしを支える制度は充実しているため、介護が必要な高齢者は減少傾向である。
- ③ 安心して出産や育児を行うことができる社会を実現するために、男女雇用機会均等法が制定された。
- ④ 医療技術の進歩などから平均寿命がのび、2020年では、国民の過半数が65歳以上である。

- (3) 下線部 c に関して、女性の社会進出の上で男性も女性も対等な立場で活躍できる社会をつくることを

求め、1999年に制定された法律として最も適当なものを次の①～④のうちから一つ選び、その番号をマークしなさい。

44

- ① 労働関係調整法
- ② 育児・介護休業法
- ③ 労働基準法
- ④ 男女共同参画社会基本法

(4) 下線部 d に関して、イギリスで議会政治が成立していく説明として不適当なものを次の①～④のうちから一つ選び、その番号をマークしなさい。

45

- ① 国王にマグナ・カルタを認めさせ、国王の権力を制限した。
- ② 権利の請願によって、国王に議会の同意なしに課税しないことなどを求めた。
- ③ 人権宣言によって、人民主権、自由権や平等権が国王によって認められた。
- ④ 権利の章典によって、国王が議会の承認なしに法律を制定しないことなどを確認した。

(5) 下線部 e に関して、衆議院と参議院で内閣総理大臣の指名で議決が異なった場合、日本国憲法で規定されたものとして最も適当なものを次の①～④のうちから一つ選び、その番号をマークしなさい。

46

- ① 両院協議会が開催されても、意見が一致しないときは、30日経てば、衆議院の議決が国会の議決となる。
- ② 両院協議会が開催されても、意見が一致しないときは、衆議院の議決が国会の議決となる。
- ③ 両院協議会が開催されなくても、30日経てば、衆議院の議決が国会の議決となる。
- ④ 両院協議会が開催されなくても、衆議院の議決が国会の議決となる。

(6) 下線部 f に関して、裁判員制度の説明として最も適当なものを次の①～④のうちから一つ選び、その番号をマークしなさい。

47

- ① 重大な事件の、地方裁判所で行われる民事裁判の第一審において行われる制度である。
- ② 原則として、6名の裁判官とくじ引きで選ばれた3名の裁判員が裁判を行う。
- ③ 裁判員は、裁判の審理に出席して証拠を見聞きし、裁判官と対等に議論する。
- ④ 裁判員は有罪または無罪の決定のみを行い、量刑の決定は裁判官のみで行う。



- (7) 下線部 g に関して、次の日本国憲法の条文の ( I ) ~ ( IV ) にあてはまる語句の組み合わせとして最も適当なものをあとの①~⑥のうちから一つ選び、その番号をマークしなさい。

48

第12条 この憲法が国民に保障する自由及び権利は、国民の ( I ) によつて、これを保持しなければならない。又、国民は、これを ( II ) してはならないのであつて、常に公共の福祉のためにこれを利用する責任を負ふ。

第14条 すべて国民は、法の下に平等であつて、人種、信条、性別、社会的 ( III ) 又は門地により、政治的、経済的又は社会的関係において、差別されない。

第21条 集会、( IV ) 及び言論、出版その他の一切の表現の自由は、これを保障する。

- ① I : 不断の努力 II : 悪用 III : 地位 IV : 結社  
② I : 永久の権利 II : 濫用 III : 地位 IV : 団体  
③ I : 永久の権利 II : 悪用 III : 身分 IV : 団体  
④ I : 不断の努力 II : 濫用 III : 身分 IV : 結社  
⑤ I : 永久の権利 II : 悪用 III : 身分 IV : 結社  
⑥ I : 不断の努力 II : 濫用 III : 地位 IV : 団体

- (8) 下線部 h に関して、司法権の独立について述べた次の I・II の文の正誤の組み合わせとして最も適当なものをあとの①~④のうちから一つ選び、その番号をマークしなさい。

49

I 最高裁判所の長官は天皇が任命し、下級裁判所の裁判官は内閣が任命する。すべての裁判官は弾劾裁判と定年以外に辞めさせられることはない。

II すべての裁判所は立法府が制定した法律や、行政府が制定した政令や命令などが憲法に違反していないかどうかを審査する権限を有している。

- ① I : 正 II : 正 ② I : 正 II : 誤 ③ I : 誤 II : 正 ④ I : 誤 II : 誤

- (9) 下線部 i に関して、地方公共団体の現状や期待されている役割として最も適当なものを次の①~④のうちから一つ選び、その番号をマークしなさい。

50

① グローバル化に伴い、各地方公共団体に外国人永住者が増えてきたため、永住している外国人に対して、すべての地方公共団体が参政権を認めている。

② 地方財政はその収入源である地方税などの自主財源が乏しく、歳入の約20%程度しかないので、国からの地方交付税交付金や国庫支出金への依存が高くなり、地方公共団体独自の行政はほとんど行われなくなっている。

③ 少子高齢化によって高齢者や障がい者支援などの住民生活に密着した行政が困難になり、国が地方公共団体の代わりに地域に密着した行政を行うようになってきた。

④ それぞれの地方公共団体で自立した活動ができるようにするために、現在でも地方分権が進められている。





