

2023年度 入学試験 学特入試Ⅱ

社 会

※問題は[1]ページから[15]ページまであります。

※マークシートに、受験番号・氏名・性別・科目を正しく記入してください。

※解答は、すべてマークシートに記入してください。

※書き誤りをしたときは、きれいに消してから、新しい解答を書いてください。

学 特 入 試 Ⅱ	受 験 番 号		氏 名	
-----------------------	------------------	--	------------	--

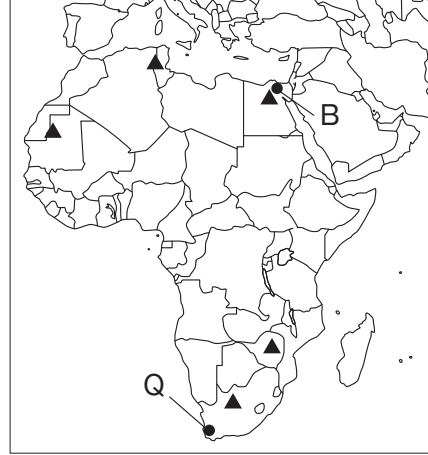
高崎健康福祉大学高崎高等学校

1. 次の地図1～4を見て、あとの問いに答えなさい。ただし縮尺は、地図によって異なります。

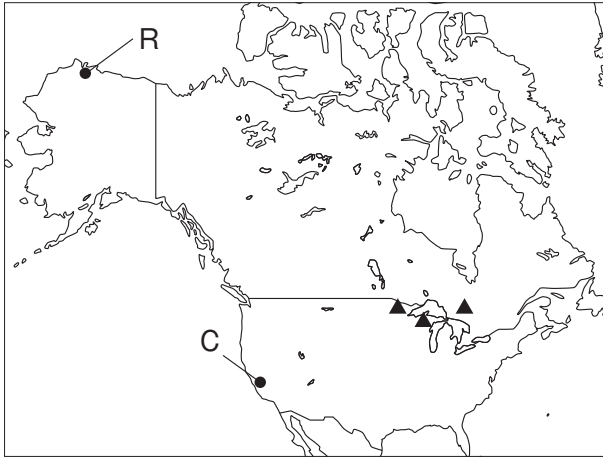
地図1



地図2



地図3



地図4



(1) 地図中に示したA～Dの都市のうち、日本が2023年1月1日午前9時になったとき、すでに2023年1月1日となっている都市の数として最も適当なものを次の①～④のうちから一つ選び、その番号をマークしなさい。ただし、サマータイムは考えないものとします。

1

- ① 1都市 ② 2都市 ③ 3都市 ④ 4都市

(2) 右の資料1、資料2は、地図中に示したP～Sのいずれかの都市の雨温図です。その組み合わせとして最も適当なものを次の①～⑧のうちから一つ選び、その番号をマークしなさい。

2

① 資料1：P 資料2：Q

② 資料1：Q 資料2：R

③ 資料1：R 資料2：S

④ 資料1：S

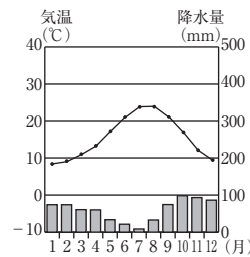
⑤ 資料1：P 資料2：S

⑥ 資料1：Q

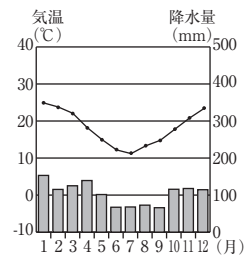
⑦ 資料1：R 資料2：Q

⑧ 資料1：S

資料1



資料2



資料2：P

(理科年表2022などより)

資料2：S

資料2：Q

(3) 地図1中の◎は、新期造山帯（アルプス・ヒマラヤ造山帯、環太平洋造山帯）に属していますが、新期造山帯に属する山脈として不適当なものを次の①～④のうちから一つ選び、その番号をマークしなさい。

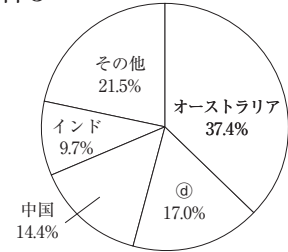
3

- ① ロッキー山脈 ② アンデス山脈 ③ ウラル山脈 ④ ピレネー山脈

(4) 右の資料3は、地図1～4でおもな産地を▲で表した、ある鉱産資源の国別産出割合（2020年）を示したもので、資料中の◎は、地図4中の◎と同一の国になります。この鉱産資源として最も適当なものを次の①～④のうちから一つ選び、その番号をマークしなさい。

4

資料3



〔日本国勢図会2022/23〕より

- ① 石炭 ② 原油（石油）
③ ウラン ④ 鉄鉱石

(5) 地図4中の◎国について述べた次の文中の（ X ）、（ Y ）にあてはまる語句の組み合わせとして最も適当なものをあとの①～④のうちから一つ選び、その番号をマークしなさい。

5

この国は、かつて地図1中の（ X ）に植民地支配されていたため、独立後の現在も信仰の中心はキリスト教のうちの（ Y ）である。

- ① X：◎ Y：カトリック ② X：◎ Y：プロテスタント
③ X：◎ Y：カトリック ④ X：◎ Y：プロテスタント

(6) 地図3中のアメリカ合衆国について述べた次のⅠ、Ⅱの文の正誤の組み合わせとして最も適当なものをあとの①～④のうちから一つ選び、その番号をマークしなさい。

6

- Ⅰ サンフランシスコ近郊には、コンピュータや情報技術関連の企業が集まる、シリコンバレーと呼ばれる地域がある。
Ⅱ 五大湖の周辺では冷涼な気候を利用して乳牛を飼い、牛乳やチーズなどの乳製品を製造する酪農が行われている。

- ① Ⅰ：正 Ⅱ：正 ② Ⅰ：正 Ⅱ：誤 ③ Ⅰ：誤 Ⅱ：正 ④ Ⅰ：誤 Ⅱ：誤

(7) 地図4中の南アメリカ大陸に多く暮らす先住民と、ヨーロッパなどから来た白人との混血によって生まれた人々として最も適当なものを次の①～④のうちから一つ選び、その番号をマークしなさい。

7

- ① マオリ ② アボリジニ（アボリジニー）
③ ヒスパニック ④ メスチソ（メスチーソ）

(8) 地図1～4中に示された部分に属する国について述べた文として不適当なものを次の①～④のうちから一つ選び、その番号をマークしなさい。

8

- ① 国王ルイ14世がベルサイユ宮殿を建設し、絶大な権力を示した。
② ガンディーがイギリスからの独立を求めて、非暴力・不服従の抵抗運動を行った。
③ 古代文明が栄え、ピラミッドや象形文字、太陽暦などが作られた。
④ 貿易政策や奴隷制度などをめぐる対立の結果、北部の州と南部の州が戦った。

- (9) 次の資料4～6は、2020年の数値をもとに、それぞれ上位8か国と世界合計について、過去にさかのぼって作成した、小麦の生産量、輸出量、輸入量の資料です。この資料から読み取れることとして最も適当なものをあとの①～④のうちから一つ選び、その番号をマークしなさい。

9

資料4 小麦の生産量 上位8か国

	2010年	2018年	2019年	2020年
中国	115,181	131,441	133,596	134,250
インド	80,804	99,870	103,596	107,590
ロシア	41,508	72,136	74,453	85,896
アメリカ合衆国	60,062	51,306	52,581	49,691
カナダ	23,300	32,352	32,670	35,183
フランス	38,207	35,424	40,605	30,144
パキスタン	23,311	25,076	24,349	25,248
ウクライナ	16,851	24,653	28,370	24,912
世界合計	640,803	732,140	764,981	760,926

(単位：千t 「日本国勢図会2022/23」より)

資料5 小麦の輸出量 上位8か国

	2019年	2020年
ロシア	31,873	37,267
アメリカ合衆国	27,069	26,132
カナダ	22,805	26,111
フランス	19,957	19,793
ウクライナ	13,901	18,056
オーストラリア	9,592	10,400
アルゼンチン	10,543	10,197
ドイツ	5,551	9,259
世界合計	180,171	198,527

(単位：千t 「日本国勢図会2022/23」より)

資料6 小麦の輸入量 上位8か国

	2019年	2020年
インドネシア	10,716	10,300
トルコ	10,005	9,659
エジプト	10,424	9,043
中国	3,205	8,152
イタリア	7,474	7,994
アルジェリア	6,776	7,054
ブラジル	6,576	6,160
フィリピン	7,154	6,150
世界合計	179,803	191,738

(単位：千t 「日本国勢図会2022/23」より)

- ① 2020年の小麦の生産量上位8か国は、いずれの国も、2010年、2018年、2019年と次第に生産量を増加させている。
- ② 2020年の小麦の生産量上位3か国は、資料4で示されている年においては、いずれの年も生産量上位3か国となっており、2019年、2020年ともに輸出量上位3か国となっている。
- ③ 2019年と2020年において、世界の小麦の生産量に占める輸出量の割合は、2020年の方が大きく、2020年のウクライナは、国内生産量の50%以上を輸出している。
- ④ 2020年の小麦の生産量第1位である中国は、世界の生産量の20%以上を生産しているが、輸入量は世界第4位であり、世界各国が輸入する量の約10%を輸入している。

2. 次の2万5千分の1の地形図を見て、あとの問いに答えなさい。



(1) この地形図から読み取れることについて述べた文として最も適当なものを次の①～④のうちから一つ選び、その番号をマークしなさい。

10

- ① 「ひろしま」駅から「平和記念資料館」まで、地形図上の直線距離で約10cmあったので、実際の距離は約5 kmである。
- ② 「広島城跡」から南東方向に「総合体育館」があり、「総合体育館」の近くの川沿いには、美術館がある。
- ③ 「広島城跡」の敷地内には、神社や針葉樹林と果樹園が見られる。
- ④ R地点とS地点では、S地点のほうが標高が高い。

- (2) この地形図は広島市の一部分です。広島市について述べた次の文中の (X), (Y) にあてはまる語句の組み合わせとして最も適当なものをあとの①～④のうちから一つ選び、その番号をマークしなさい。

11

広島市は、(X) が、海に流れ込んだところに土砂が堆積してできた (Y) とよばれる地形を中心につくられた市である。

- ① X：太田川 Y：三角州 ② X：四万十川 Y：三角州
③ X：太田川 Y：扇状地 ④ X：四万十川 Y：扇状地
- (3) この地形図中にある広島城は、毛利輝元（1553～1625年）がそのもとを築いたといわれています。この毛利輝元が活躍したころの文化について述べた文として最も適当なものを次の①～④のうちから一つ選び、その番号をマークしなさい。

12

- ① 寺子屋で「読み・書き・そろばん」を庶民が学んだ。
② 本居宣長が古事記を研究し、『古事記伝』を著した。
③ 狩野永徳が、金箔を使って唐獅子図屏風を描いた。
④ 阿弥陀如来像を安置する平等院鳳凰堂がつくられた。
- (4) この地形図中にある高等裁判所に関して述べた文として最も適当なものを次の①～④のうちから一つ選び、その番号をマークしなさい。

13

- ① 高等裁判所は47都道府県に置かれ、北海道には追加で3か所設置されていることから、全国で50か所設置されている。
② 高等裁判所は、最高裁判所から裁判に関して指示を受け、地方裁判所や家庭裁判所、簡易裁判所の裁判に対しては指示を行う。
③ 高等裁判所で開かれる刑事裁判の第一審においては裁判員裁判が実施され、裁判員は裁判官と共に有罪・無罪や、有罪の場合は刑罰の内容まで定める。
④ 高等裁判所の裁判官は、国会が設置する弾劾裁判所による裁判の対象となることはあるが、国民審査の対象となることはない。

3. 右の地図を見て、次の問いに答えなさい。

- (1) 地図中の \equiv は、本州・四国連絡橋の3つのルートを図示したものです。いずれかのルートが結ぶ本州側と四国側の県庁所在都市名の組み合わせとして最も適当なものを次の①～④のうちから一つ選び、その番号をマークしなさい。

14

- ① 本州側：神戸市 四国側：松江市
- ② 本州側：広島市 四国側：松本市
- ③ 本州側：岡山市 四国側：高松市
- ④ 本州側：松山市 四国側：鳴門市

- (2) 地図中に示した網掛けは、地図中の%により区分したあるものの割合を示したものです。「あるもの」として最も適当なものを次の①～④のうちから一つ選び、その番号をマークしなさい。

15

- ① 都道府県の人口にしめる、65歳以上の高齢者人口の割合。
- ② 都道府県の産業別人口にしめる、第3次産業従事者の割合。
- ③ 都道府県の人口1000人あたりにしめる、出生数の割合。
- ④ 都道府県の人口100人あたりにしめる、外国人の人数の割合。

- (3) 地図中に示したX県とY県について述べた文の正誤の組み合わせとして最も適切なものをあとの①～④のうちから一つ選び、その番号をマークしなさい。

16

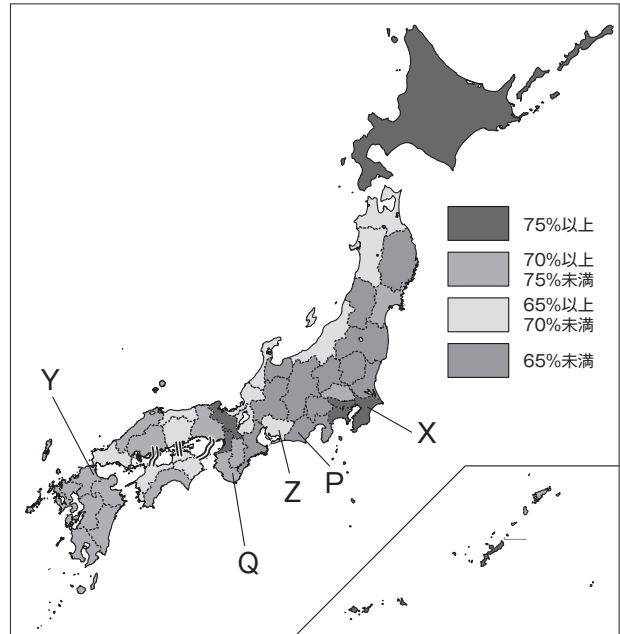
- I X県は、江戸時代には金肥の干鰯の大生産地であった。今日も漁業が盛んであり、県内の焼津は有数の漁獲高を誇る漁港である。
- II Y県は、明治時代に戦争で得た賠償金をもとに建設された八幡製鉄所が産業の中心であった。今日、I C関連の工場や自動車組み立て工場が多い。

- ① I：正 II：正 ② I：正 II：誤 ③ I：誤 II：正 ④ I：誤 II：誤

- (4) 地図中に示したZ県の特徴を述べた文として不適当なものを次の①～④のうちから一つ選び、その番号をマークしなさい。

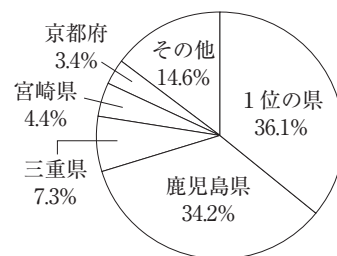
17

- ① 初夏には、沖合を流れる寒流の千島海流の影響で、日本海側よりも気温が低くなる。
- ② 県西部の濃尾平野には、木曾三川のうち長良川・木曾川が流れている。
- ③ 渥美半島では、ビニルハウスの電灯を利用して、生長を遅らせる菊の栽培が盛んである。
- ④ 日本最大の工業出荷額を誇る工業地帯の中心県であり、機械工業がその中心である。



(「データでみる県勢2022」より)

(5) 右のグラフは、ある農産物の生産上位都道府県を示したものであり、1位の県は、地図中のP・Qのいずれかの県です。この農産物名と、1位の県の組み合わせとして最も適切なものを次の①～⑥のうちから一つ選び、その番号をマークしなさい。



18

- ① 農産物：豚 1位の県：P ② 農産物：茶 1位の県：P
 ③ 農産物：米 1位の県：P ④ 農産物：豚 1位の県：Q
 ⑤ 農産物：茶 1位の県：Q ⑥ 農産物：米 1位の県：Q

(「データでみる県勢2022」より)

(6) 次の資料は、地図中の関東地方の4県と全国の統計です。資料から読み取れることについて述べた文として最も適切なものをあとの①～④のうちから一つ選び、その番号をマークしなさい。

19

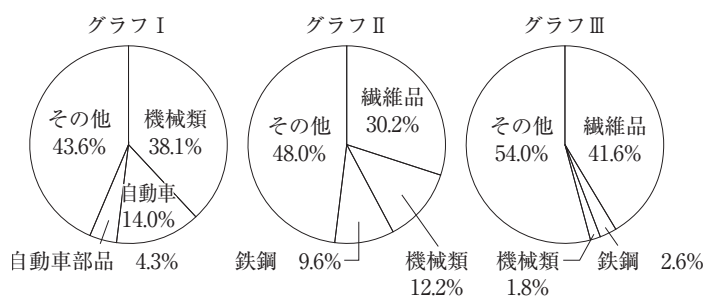
	人口 (万人)	総生産額 (億円)	農業産出額 (億円)	製造品出荷額等 (億円)	小売販売額※ (億円)
群馬県	195	89,898	2,454	92,011	21,908
埼玉県	733	232,541	1,758	143,440	69,047
X県	626	210,747	4,259	132,118	62,000
神奈川県	918	357,171	697	185,700	91,266
全国	12,644	5,655,865	90,558	3,346,804	1,400,698

(2018年値 ※2019年値)

(「日本国勢図会2022/23」などより)

- ① 4県において、人口が多い県ほど、総生産額・農業産出額・製造品出荷額等・小売販売額のいずれも多くなっている。
 ② 4県において、総生産額・農業産出額・製造品出荷額等・小売販売額のうち、最高金額と最低金額の金額差が最も大きいのは農業産出額である。
 ③ 1人当たりの製造品出荷額等の金額について、4県の中では群馬県が一番高く、埼玉県が一番低い。
 ④ 農業産出額と製造品出荷額等の合計金額について、X県は埼玉県よりも多く、神奈川県よりも少ない。

(7) 右の円グラフI～IIIは、1935年、1960年、2020年のいずれかの、わが国の輸出品目別割合を示したものです。3つの円グラフを、年代の古い順に並べたものとして最も適切なものを次の①～⑥のうちから一つ選び、その番号をマークしなさい。



(「日本国勢図会2022/23」などより)

20

- ① I - II - III ② I - III - II ③ II - I - III
 ④ II - III - I ⑤ III - I - II ⑥ III - II - I

4. 次の表は、中学生の山田さんが、旧石器時代から江戸時代までを時代順にメモしたものです。これについて、あとの問いに答えなさい。ただし、すべての時代について示されてはいません。

時代	重要・気になったことがら
旧石器時代	打製石器が関東ローム層から出土し、人々がそれらを使用して暮らしていたことが分かる。
<u>a</u>	吉野ヶ里遺跡からどのような生活の様子を知ることができるのだろうか。
<u>b</u> 奈良時代	大陸の文化や制度を取り入れるため、使節が派遣された。
<u>c</u> 平安時代	この時代に作られた仮名文字が現在でも使われている。
鎌倉時代	<u>d</u> 農業や商工業が発展する。東大寺南大門には金剛力士像が見られる。
<u>e</u> 室町時代	京都に <u>f</u> 幕府が開かれ、 <u>g</u> 金閣や銀閣が建てられた。
江戸時代	なぜ <u>h</u> 江戸幕府は約260年も続いたのだろうか。

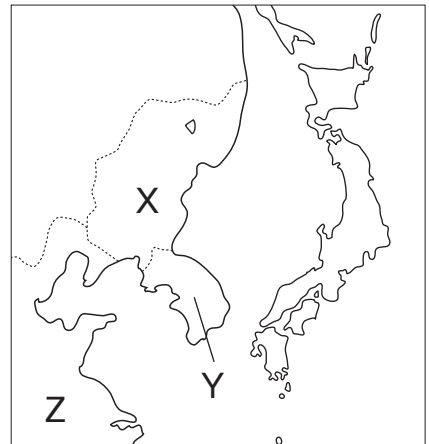
(1) a にあてはまる時代の様子として不適当なものを次の①～④のうちから一つ選び、その番号をマークしなさい。 21

- ① 稲作がさかんに行われ、刈り取った稲を保管する高床倉庫がつくられた。
- ② 土地や水の利用などをめぐり、ムラヤクニの間で争いがあった。
- ③ 大陸などから青銅器や鉄器が伝わり、青銅器は祭器、鉄器は武器として用いられた。
- ④ 漢字が伝えられ、漢字で当時の倭（日本）の生活、世の中の様子が記録された。

(2) 下線部 b に関して、この時代の大陸、朝鮮半島の国を示した右の図中の X～Z のいずれの国としても不適当なものを次の①～④のうちから一つ選び、その番号をマークしなさい。

22

- ① 渤海
- ② 新羅
- ③ 高麗
- ④ 唐



(3) 下線部 b に関して、この時代などの律令制のもとで農民に課せられた税の一つで、1年に60日以内の労役に従事する負担として最も適当なものを次の①～④のうちから一つ選び、その番号をマークしなさい。 23

- ① 租
- ② 調
- ③ 防人
- ④ 雑徭

(4) 下線部 c に関して、この時代の初期の仏教について述べた次の文中の (X), (Y) にあてはまる語句の組み合わせとして最も適当なものをあとの①～④のうちから一つ選び、その番号をマークしなさい。 24

中国から帰国した (X) は (Y) を伝え、比叡山に延暦寺を建てた。

- ① X：最澄 Y：真言宗
- ② X：最澄 Y：天台宗
- ③ X：空海 Y：真言宗
- ④ X：空海 Y：天台宗

(5) 下線部cに関して、この時代の念仏を唱えて阿弥陀仏にすがれば死後に極楽浄土に生まれ変わることを願う考えとして最も適当なものを次の①～④のうちから一つ選び、その番号をマークしなさい。

25

- ① 浄土信仰 ② 精霊信仰 ③ 啓蒙思想 ④ 末法思想

(6) 下線部cに関して、この時代の次のⅠ～Ⅲのできごとを年代の古い順に並べたものとして最も適当なものをあとの①～⑥のうちから一つ選び、その番号をマークしなさい。

26

Ⅰ 東北で前九年の役（合戦）、後三年の役（合戦）が起こる。

Ⅱ 都で、天皇と上皇が対立し、保元の乱が起こる。

Ⅲ 関東地方で、平将門が乱を起こし、新皇と称す。

- ① Ⅰ－Ⅱ－Ⅲ ② Ⅰ－Ⅲ－Ⅱ ③ Ⅱ－Ⅰ－Ⅲ

- ④ Ⅱ－Ⅲ－Ⅰ ⑤ Ⅲ－Ⅰ－Ⅱ ⑥ Ⅲ－Ⅱ－Ⅰ

(7) 下線部dに関して、鎌倉時代の農業や商工業の様子について述べた文として最も適当なものを次の①～④のうちから一つ選び、その番号をマークしなさい。

27

① 陸上では馬借が、港など交通の要所では問（問丸）が活躍した。

② 商工業者の同業組合である株仲間が結成され、営業を独占した。

③ 米と麦を育てる二毛作が行われるようになった。

④ 問屋制家内工業ののち、工場制手工業が発展してきた。

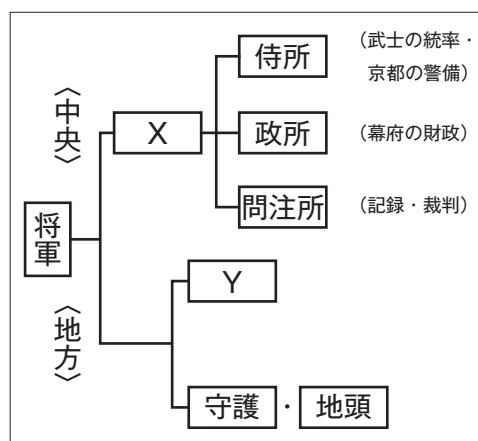
(8) 下線部eに関して、この時代にポルトガル人によって日本に初めて鉄砲が伝えられましたが、その場所として最も適当なものを次の①～④のうちから一つ選び、その番号をマークしなさい。

28

- ① 国友 ② 堺 ③ 屋久島 ④ 種子島

(9) 下線部fに関して、幕府のしくみを示した右の図中の **X**、**Y** にあてはまる語句の組み合わせとして最も適当なものを次の①～④のうちから一つ選び、その番号をマークしなさい。

29



① X：管領 Y：鎌倉府

② X：管領 Y：京都所司代

③ X：執権 Y：鎌倉府

④ X：執権 Y：京都所司代

(10) 下線部 g に関して、京都の北山に金閣寺を建てた人物として最も適当なものを次の①～④のうちから一つ選び、その番号をマークしなさい。

30

- ① 足利尊氏 ② 足利義満 ③ 足利義政 ④ 足利義昭

(11) 下線部 h に関して、この幕府によって制定された法を簡略に示した資料として最も適当なものを次の①～④のうちから一つ選び、その番号をマークしなさい。

31

①

- 一 学問と武道にひたすら精を出すようにせよ。
- 一 城は、修理であっても必ず幕府に報告せよ。新しく城を築くことは禁止する。
- 一 大名が自分の領地と江戸とを交代で住むように定める。毎年4月に江戸へ参勤せよ。

②

- 一 武士が20年の間、実際に土地を支配しているなら、その権利を認める。
- 一 女性が養子を迎えることは、律令では許されないが、頼朝公の時代から今日まで、子のいない女性が土地を養子にゆずることは、武家社会のしきたりとして数えきれないほどある。

③

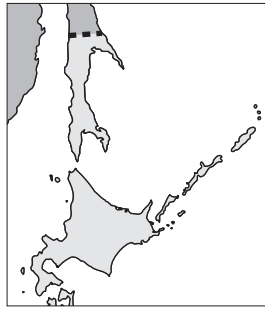
- 一 日本は神国であるため、キリシタンの国から悪い教えを伝え広められるのはよくない。
- 一 宣教師は今後、日本にいることはできない。今日から20日以内に帰国しなさい。
- 一 ポルトガルの貿易船については、商売のために来ているので、特別に許可する。今後もしろいろ売買するようしなさい。

④

- 一 諸国の百姓が、刀・脇差・弓・鉄砲・その他の武具などを持つことは、禁止する。その理由は、武具をたくわえた者が一揆を起こして処罰されると……。
- 一 取り上げた刀や脇差は、大仏建立のためのくぎやかすがいとして用いようと思う。そうすれば、この世はもちろん、来世までも百姓のためになるだろう。

5. 右の年表を見て、次の問いに答えなさい。

(1) 右の地図中の――で示した国境区分と関係するものを年表中の①～④の条約から一つ選び、その番号をマークしなさい。 32



(2) 下線部 a に関して、これ以前の江戸時代末の国内の動きを説明した文として最も適当なものを次の①～④のうちから一つ選び、その番号をマークしなさい。 33

年	おもなできごと
1854	日露和親条約が結ばれる…… ①
1867	a <u>王政復古の号令が出される</u>
1874	b <u>民撰議院設立建白書が提出される</u>
1875	樺太・千島交換条約が結ばれる… ②
1895	下関条約が結ばれる…… ③
1905	ポーツマス条約が結ばれる…… ④
1920	c <u>国際連盟が設立される</u>
1939	} 第二次世界大戦
1945	
1989	d <u>元号が昭和から平成へとかわる</u>

- ① ペリーが下田に来航し、日米和親条約を結んだ。
- ② 桜田門外の変の後、井伊直弼が、吉田松陰らを処罰する安政の大獄が起こった。
- ③ 薩摩藩は、イギリス艦隊から生麦事件の報復攻撃を受け、攘夷の考えを改めた。
- ④ 15代将軍徳川慶喜は、政権を朝廷に返す版籍奉還を行った。

(3) 下線部 b に関して、このできごと以降の、自由民権運動やそれに対する政府の動きに関して、次のⅠ～Ⅲのできごとを年代の古い順に並べたものとして最も適当なものをあとの①～⑥のうちから一つ選び、その番号をマークしなさい。 34

- Ⅰ 天皇が国民にあたえるという形式で、大日本帝国憲法が公布された。
- Ⅱ 大阪で、国会の開設を求める組織である国会期成同盟がつくられた。
- Ⅲ 内閣制度がつくられ、伊藤博文が初代内閣総理大臣になった。

- ① Ⅰ－Ⅱ－Ⅲ ② Ⅰ－Ⅲ－Ⅱ ③ Ⅱ－Ⅰ－Ⅲ
- ④ Ⅱ－Ⅲ－Ⅰ ⑤ Ⅲ－Ⅰ－Ⅱ ⑥ Ⅲ－Ⅱ－Ⅰ

(4) 下線部 c に関して述べた次の文中の (X), (Y) にあてはまる語句の組み合わせとして最も適当なものをあとの①～④のうちから一つ選び、その番号をマークしなさい。 35

アメリカ合衆国大統領の (X) の提案をもとに、平和を維持する組織として国際連盟が、(Y) を本部として設立された。

- ① X：ウィルソン Y：ジュネーブ ② X：ウィルソン Y：ニューヨーク
- ③ X：ケネディ Y：ジュネーブ ④ X：ケネディ Y：ニューヨーク

(5) 年表中の第二次世界大戦中のできごとについて述べた文として最も適当なものを次の①～④のうちから一つ選び、その番号をマークしなさい。

36

- ① 世界恐慌への対策として、イギリスやフランスはブロック経済を行った。
- ② 柳条湖での日本軍による鉄道爆破事件がきっかけとなり、満州事変が始まった。
- ③ 日本は、ドイツ、イタリアと日独伊三国同盟を、ソ連とは日ソ中立条約を結んだ。
- ④ G H Qの指令のもと、民主化政策として財閥解体や農地改革が行われた。

(6) 下線部dに関して、この年以降のできごととして不適当なものを次の①～④のうちから一つ選び、その番号をマークしなさい。

37

- ① キューバ危機が起こり、核兵器を使った戦争の危険性が高まった。
- ② アメリカ合衆国で、複数の航空機による同時多発テロが起こった。
- ③ イラクのクウェート侵攻をきっかけとして、その後、湾岸戦争が始まった。
- ④ イラクの大量破壊兵器保有を理由に、アメリカ軍などとイラクとの戦争が始まった。

(7) 明治から昭和にかけて活躍した津田梅子・北里柴三郎・渋沢栄一の3人の肖像画が、2024年から発行される新紙幣で使用されます。この3人のうちの、津田梅子と渋沢栄一について述べた文の正誤の組み合わせとして最も適切なものをあとの①～④のうちから一つ選び、その番号をマークしなさい。

38

I 岩倉使節団に同行して海外留学した津田梅子は、帰国後、女子教育に力を注いだ。

II 細菌学者の渋沢栄一は、破傷風の血清療法を発見した。

- ① I：正 II：正 ② I：正 II：誤 ③ I：誤 II：正 ④ I：誤 II：誤

6. 次の中学生の山田さんが書いたメモを見て、あとの問いに答えなさい。

現代社会の 特色	日本では、 <u>a</u> <u>少子高齢化</u> が進む。 グローバル化により多文化社会となっている。 <u>b</u> <u>日本文化</u> についても理解する。
<u>c</u> <u>日本国憲法</u>	1947年5月3日に施行され、今日まで続く。一文字も変更されていない。
基本的人権	<u>d</u> <u>社会権</u> にはいろいろな権利が含まれる。また、近年では <u>e</u> <u>新しい人権</u> が登場した。
選挙	満18歳から <u>f</u> <u>選挙権</u> が得られる。高校3年生もその対象であるということだ。
<u>g</u> <u>国会</u>	衆議院に見学に行った。守衛さんがものものしく立っていた。
<u>h</u> <u>内閣</u>	内閣総理大臣は必ず国会議員でなければならないとは知らなかった。
<u>i</u> <u>裁判所</u>	裁判官の着る法服が黒色であることに理由があることを知った。
<u>j</u> <u>地方自治</u>	市役所内に市議会が開かれる場所があり、ここも見学した。

(1) 下線部 a に関して、次の表から読み取れることについて述べた文として不適当なものをあとの①～④のうちから一つ選び、その番号をマークしなさい。

39

年	総人口 (万人)	0～14歳 (%)	15～64歳 (%)	65歳以上 (%)
1950	8,320	35.4	59.6	4.9
1960	9,342	30.2	64.1	5.7
1970	10,372	24.0	68.9	7.1
1980	11,706	23.5	67.4	9.1
1990	12,361	18.2	69.7	12.1
2000	12,693	14.6	68.1	17.4
2010	12,806	13.2	63.8	23.0
2020	12,615	11.9	59.5	28.6

※四捨五入の関係で合計が100%にならないものがある。 (「日本国勢図会 2022/23」より)

① 2020年の総人口は2000年の総人口よりも少ない。
 ② 総人口にしめる割合について、0～14歳の割合は1990年に65歳以上の割合を下回った。
 ③ 2020年における15～64歳の総人口にしめる割合は、60%を下回った。
 ④ 1950年から2020年にかけて、65歳以上の総人口にしめる割合は上がり続けている。

(2) 下線部 b に関して、次の日本の年中行事①～④を、1月から12月の順に並べたとき、3番目になるものを一つ選び、その番号をマークしなさい。

40

① 節分 ② 端午の節句 ③ 七五三 ④ ひな祭り

- (3) 下線部cに関して、次は日本国憲法前文の一部であるが、文中の(X)～(Z)にあてはまる語句の組み合わせとして最も適当なものをあとの①～⑥のうちから一つ選び、その番号をマークしなさい。

41

日本国民は、……そもそも国政は、国民の厳粛な信託によるものであつて、その(X)は国民に由来し、その(Y)は国民の代表者がこれを行使し、その(Z)は国民がこれを享受する。

- ① X：権威 Y：権力 Z：福利 ② X：権力 Y：権威 Z：福利
 ③ X：主権 Y：権威 Z：権力 ④ X：権威 Y：主権 Z：権力
 ⑤ X：権力 Y：権威 Z：統治 ⑥ X：主権 Y：権力 Z：統治
- (4) 下線部dに関して、この権利に含まれる権利として最も適当なものを次の①～④のうちから一つ選び、その番号をマークしなさい。

42

- ① 裁判を受ける権利 ② 国家賠償請求権
 ③ 特別法の住民投票権 ④ 教育を受ける権利
- (5) 下線部dに関して、労働者には労働基本権(労働三権)が認められています。そのうち、労働者が労働組合をつくる権利として最も適当なものを次の①～④のうちから一つ選び、その番号をマークしなさい。

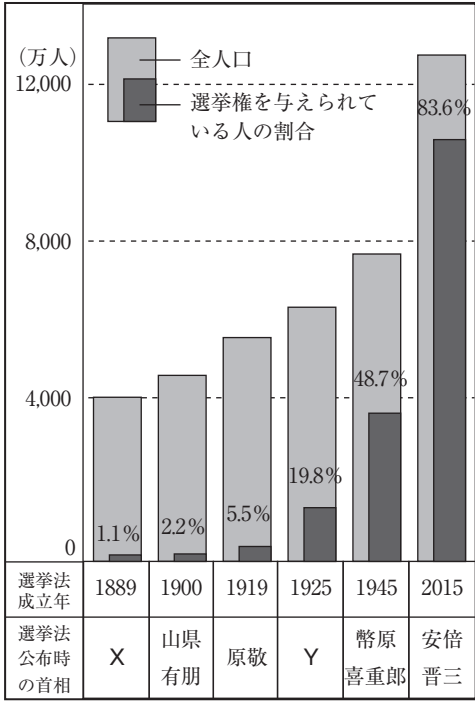
43

- ① 争議権 ② 団結権 ③ 団体交渉権 ④ 団体行動権
- (6) 下線部eに関して、新しい人権のうち、医療現場で患者が自ら治療方法などを決定することができるように医師から十分な説明を得ることとして最も適当なものを次の①～④のうちから一つ選び、その番号をマークしなさい。

44

- ① メディアリテラシー
 ② マスメディア
 ③ インフォームド・コンセント
 ④ バリアフリー
- (7) 下線部fに関して、右の表は、有権者数の推移を示しています。表中のX、Yのときの内閣総理大臣の組み合わせとして最も適当なものを次の①～④のうちから一つ選び、その番号をマークしなさい。

45



- ① X：伊藤博文 Y：加藤高明
 ② X：伊藤博文 Y：田中角栄
 ③ X：黒田清隆 Y：加藤高明
 ④ X：黒田清隆 Y：田中角栄

(8) 下線部 g に関して、国会について述べた文として最も適当なものを次の①～④のうちから一つ選び、その番号をマークしなさい。

46

- ① 臨時会（臨時国会）は、衆議院の解散後の総選挙の日から30日以内に開かれる。
- ② 衆議院議員の選挙は、比例代表制と都道府県を単位とした選挙区制で行われる。
- ③ 衆議院、参議院の委員会の審議後には、両院協議会を開いて議決を調整する。
- ④ 予算の議決では衆議院が優越するが、憲法改正の発議では衆議院は優越しない。

(9) 下線部 h に関して、内閣の仕事を次からすべて選ぶといくつあるか。その数として適当なものをあとの①～⑥のうちから一つ選び、その番号をマークしなさい。

47

条約の承認	予算の作成	最高裁判所長官の任命
国政調査権の行使	弾劾裁判所の設置	

- ① 1個 ② 2個 ③ 3個 ④ 4個 ⑤ 5個 ⑥ 0個

(10) 下線部 h に関して、大正時代の原敬内閣は、陸軍・海軍・外務の大臣以外は衆議院第一党の政党の党員で構成する初の本格的な政党内閣をつくりました。この政党として最も適当なものを次の①～④のうちから一つ選び、その番号をマークしなさい。

48

- ① 立憲政友会 ② 立憲改進黨 ③ 憲政会 ④ 自由党

(11) 下線部 i に関して、制定された法律が憲法と照らし合わせて、合憲か違憲かを最終的に決定することから「憲法の番人」とよばれる裁判所として最も適当なものを次の①～④のうちから一つ選び、その番号をマークしなさい。

49

- ① 特別裁判所 ② 地方裁判所 ③ 高等裁判所 ④ 最高裁判所

(12) 下線部 j に関して述べた次の I、II の文の正誤の組み合わせとして最も適当なものをあとの①～④のうちから一つ選び、その番号をマークしなさい。

50

I 有権者数が6万人の市において、市長の解職請求を行う場合、必要となる署名数は2万人分以上であり、集めた署名は市議会に提出して、解職を請求する。

II 市長の提出した予算案を市議会が否決した場合、市長は議会の議決に対して拒否権を行使し、再議することを請求できる。

- ① I：正 II：正 ② I：正 II：誤 ③ I：誤 II：正 ④ I：誤 II：誤

